


NOME: \_\_\_\_\_

DATA: \_\_\_\_\_

## CAPÍTULO 8 – 3º ANO: MEDIDAS DE COMPRIMENTO

1. PARA MEDIR OS ITENS DE ① A ④ ABAIXO, QUAL É MELHOR USAR: RÉGUA (ものさし), FITA MÉTRICA (まきじゃく) OU TRENA (巻き尺 (まきじゃく))?

RESPONDA OS NÚMEROS CORRESPONDENTES PINTANDO COM A COR DA RESPOSTA DO INSTRUMENTO MAIS ADEQUADO PARA SER UTILIZADO:



- ① ノートのたての長さ → COMPRIMENTO VERTICAL DO CADERNO
- ② 黒板の横の長さ → COMPRIMENTO HORIZONTAL DO QUADRO-NEGRO
- ③ 木のまわりの長さ → CIRCUNFERÊNCIA DE UMA ÁRVORE
- ④ 学校のうち下の長さ → COMPRIMENTO DO CORREDOR DA ESCOLA

### OBSERVAÇÃO (とき方)

長いものや、まるいものの長さをはかるときは、まきじゃくを使うと便利です。  
QUANDO MEDIMOS COISAS LONGAS OU REDONDAS, É CONVENIENTE USAR A FITA MÉTRICA.

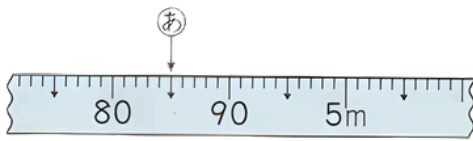
長いものは → まきじゃく (COISAS LONGAS → FITA MÉTRICA)  
まるいものは → まきじゃく (COISAS REDONDAS → FITA MÉTRICA)

答え

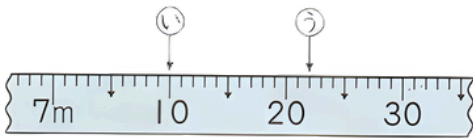
ものさしを使う → PARA COISAS PEQUENAS/RETILÍNEAS  
まきじゃくを使う → PARA COISAS LONGAS/CIRCULARES

## 2. LEIA AS MARCAÇÕES (NÚMEROS) DAS FITAS MÉTRICAS ABAIXO.

REGISTRE A MEDIDA DE CADA PONTO:

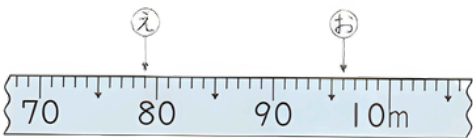


あ (                    )



い (                    )

う (                    )



え (                    )

お (                    )

## VOCÊ SABE O QUE SIGNIFICA “MICHINORI” (DISTÂNCIA PERCORRIDA)?

### EXEMPLO

家から小学校までの道のりは1400Mです。これは何KM何Mですか。

A DISTÂNCIA DE CASA ATÉ A ESCOLA É DE 1400M. ISSO CORRESPONDE A QUANTOS KM E QUANTOS M?

1000M = 1KM

PORTANTO, 1400M = 1KM 400M.

### たいせつ (IMPORTANTE)

- A DISTÂNCIA PERCORRIDA AO LONGO DE UM CAMINHO É CHAMADA DE MICHINORI.
- 1000 METROS = 1 QUILÔMETRO (KM).

## 3. COMPLETE COM OS NÚMEROS QUE FALTAM.

① 5000 m =  km

② 9200 m =  km  m

③ 7 km 800 m =  m

④ 6 km 40 m =  m



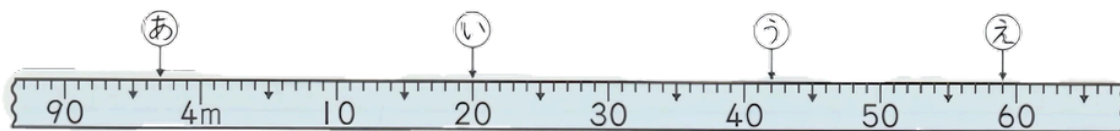


NOME: \_\_\_\_\_

DATA: \_\_\_\_\_

## TESTE DE REVISÃO

1- AS MARCAÇÕES (A, I, U, E) NA RÉGUA REPRESENTAM QUANTOS METROS E QUANTOS CENTÍMETROS?



あ (            )    い (            )    う (            )    え (            )

2- PREENCHA OS NÚMEROS QUE FALTAM.

①  $6010\text{ m} = \square \text{ km } \square \text{ m}$

②  $8205\text{ m} = \square \text{ km } \square \text{ m}$

③  $4\text{ km } 710\text{ m} = \square \text{ m}$

④  $3\text{ km } 15\text{ m} = \square \text{ m}$

3- RESOLVA OS CÁLCULOS ABAIXO.

①  $1\text{ km } 400\text{ m} + 700\text{ m}$

②  $900\text{ m} + 2\text{ km } 500\text{ m}$

③  $1\text{ km } 700\text{ m} + 1\text{ km } 500\text{ m}$

④  $3\text{ km } 800\text{ m} + 500\text{ m}$

⑤  $950\text{ m} + 4\text{ km } 50\text{ m}$

⑥  $6\text{ km } 200\text{ m} - 500\text{ m}$

⑦  $1\text{ km } 300\text{ m} - 800\text{ m}$

⑧  $5\text{ km} - 600\text{ m}$

⑨  $1\text{ km } 600\text{ m} - 900\text{ m}$

⑩  $2\text{ km } 300\text{ m} - 400\text{ m}$

4- COMPLETE COM OS NÚMEROS QUE FALTAM.

O COMPRIMENTO QUE É 1000 VEZES 1M É \_\_\_\_\_.

O COMPRIMENTO QUE É 10 VEZES 100M TAMBÉM É \_\_\_\_\_.

# FOLHA RESPOSTA

## 1. QUESTÃO

① COMPRIMENTO VERTICAL DO CADERNO

② HORIZONTAL DO QUADRO-NEGRO

③ CIRCUNFERÊNCIA DE UMA ÁRVORE

④ COMPRIMENTO DO CORREDOR DA ESCOLA

## 2. QUESTÃO

㊦ ( 4m 85cm )

㊧ ( 7m 10cm )

㊨ ( 7m 22cm )

㊩ ( 9m 79cm )

㊪ ( 9m 96cm )

## 3. QUESTÃO

1- 5

2- 9KM200M

3- 7800

4- 6040

## 4. QUESTÃO

㊫  $1\text{km } 600\text{m} + 2\text{km } 400\text{m} = 4000\text{m} (4\text{km})$

$3\text{km } 400\text{m} - 4\text{km} = 600\text{m}$

答え ( 600m )

## 5. QUESTÃO

1- 2KM

2- 3KM 400M

3- 2KM 200M

4- 3KM 700M

NOME: \_\_\_\_\_

DATA: \_\_\_\_\_

## ATIVIDADE DE REVISÃO COMPRIMENTO

### 1- COMPLETE OS QUADRADOS COM OS VALORES CORRETOS.

- ①  $8000\text{ m} = \boxed{8}\text{ km}$
- ②  $9\text{ km} = \boxed{9000}\text{ m}$
- ③  $6520\text{ m} = \boxed{6}\text{ km } \boxed{520}\text{ m}$
- ④  $4\text{ km } 70\text{ m} = \boxed{4070}\text{ m}$
- ⑤  $5034\text{ m} = \boxed{5}\text{ km } \boxed{34}\text{ m}$
- ⑥  $10\text{ km } 8\text{ m} = \boxed{1008}\text{ m}$

$1\text{ cm} = 10\text{ mm}$   
 $1\text{ m} = 100\text{ cm}$   
 $1\text{ km} = 1000\text{ m}$

**DICA: SE O NÚMERO DOS METROS FOR MENOR QUE O QUE ESTÁ SUBTRAINDO, CONVERTA 1KM EM 1000M!**

### 2- PREENCHA COM A UNIDADE DE MEDIDA ADEQUADA (MM, CM, M, KM ).

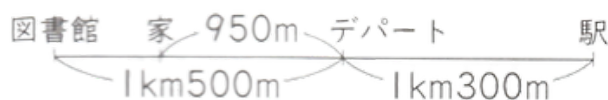
家から学校までの道のり → A DISTÂNCIA DE CASA ATÉ A ESCOLA →  $1\text{ km}$

教科書のおつさ → A ESPESSURA DE UM LIVRO →  $6\text{ mm}$

絵はがきの横の長さ → O COMPRIMENTO DE UM CARTÃO-POSTAL →  $10\text{ cm}$

サクラの木の高さ → A ALTURA DE UMA CEREJEIRA →  $9\text{ m}$

### 3- OLHE O DIAGRAMA À DIREITA E RESPONDA ÀS PERGUNTAS.



QUAL É A DISTÂNCIA DE CASA ATÉ A BIBLIOTECA?

式  $1\text{ km } 500\text{ m} - 950\text{ m} = 550\text{ m}$

答え (  $550\text{ m}$  )

QUAL É A DIFERENÇA ENTRE A DISTÂNCIA DE CASA ATÉ A BIBLIOTECA E A DISTÂNCIA DE CASA ATÉ A ESTAÇÃO?

式  $950\text{ m} + 1\text{ km } 300\text{ m} = 2250\text{ m}$

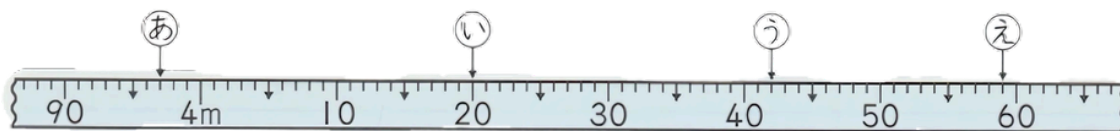
答え (  $1\text{ km } 700\text{ m}$  )

NOME: \_\_\_\_\_

DATA: \_\_\_\_\_

## TESTE DE REVISÃO

1- AS MARCAÇÕES (A, I, U, E) NA RÉGUA REPRESENTAM QUANTOS METROS E QUANTOS CENTÍMETROS?



- Ⓐ ( 3m 97cm )   Ⓘ ( 4m 20cm )   Ⓤ ( 4m 42cm )   Ⓔ ( 4m 59cm )

2- PREENCHA OS NÚMEROS QUE FALTAM.

①  $6010\text{m} = \boxed{6}\text{ km } \boxed{10}\text{ m}$

②  $8205\text{m} = \boxed{8}\text{ km } \boxed{205}\text{ m}$

③  $4\text{ km } 710\text{m} = \boxed{4710}\text{ m}$

④  $3\text{ km } 15\text{m} = \boxed{3015}\text{ m}$

3- RESOLVA OS CÁLCULOS ABAIXO.

①  $1\text{ km } 400\text{m} + 700\text{m} = \mathbf{2\text{ km } 100\text{m}}$

②  $900\text{m} + 2\text{ km } 500\text{m} = \mathbf{3\text{ km } 400\text{m}}$

③  $1\text{ km } 700\text{m} + 1\text{ km } 500\text{m} = \mathbf{3\text{ km } 200\text{m}}$

④  $3\text{ km } 800\text{m} + 500\text{m} = \mathbf{4\text{ km } 300\text{m}}$

⑤  $950\text{m} + 4\text{ km } 50\text{m} = \mathbf{5\text{ km}}$

⑥  $6\text{ km } 200\text{m} - 500\text{m} = \mathbf{5\text{ km } 700\text{m}}$

⑦  $1\text{ km } 300\text{m} - 800\text{m} = \mathbf{500\text{m}}$

⑧  $5\text{ km} - 600\text{m} = \mathbf{4\text{ km } 400\text{m}}$

⑨  $1\text{ km } 600\text{m} - 900\text{m} = \mathbf{700\text{m}}$

⑩  $2\text{ km } 300\text{m} - 400\text{m} = \mathbf{1\text{ km } 900\text{m}}$

4- COMPLETE COM OS NÚMEROS QUE FALTAM.

O COMPRIMENTO QUE É 1000 VEZES 1M É 1km.

O COMPRIMENTO QUE É 10 VEZES 100M TAMBÉM É 1km.

## FOLHA RESPOSTA- REVISÃO COMPRIMENTO

### 1. QUESTÃO

- 1 8000m = 8 km
- 2 9 km = 9000 m
- 3 6520m = 6 km 520 m
- 4 4 km 70m = 4070 m
- 5 5034 m = 5 km 34 m
- 6 10km 8m = 1008 m

### 2. QUESTÃO

- 1 km
- 6 mm
- 10 cm
- 9 m

### 3. QUESTÃO

式 1km 500m - 950m = 550m

答え ( 550m )

式 950m + 1km 300m = 2250m

答え ( 1km 700m )

## FOLHA RESPOSTA- TESTE DE REVISÃO

### 1. QUESTÃO

A-3M 97CM

I-4M 20CM

U-4M 42CM

E-4M 59CM

### 2. QUESTÃO

- 1 6010m = 6 km 10 m
- 2 8205m = 8 km 205 m
- 3 4km 710m = 4710 m
- 4 3km 15m = 3015 m

### 3. QUESTÃO

1-2KM 100M

2-3KM 400M

3-3KM 200M

4-4KM 300M

5-5KM

6-5KM 700M

7-500M

8-4KM 400M

9-700M

10-1KM 900M

### 4.QUESTÃO

1KM

1KM