



NOME: \_\_\_\_\_

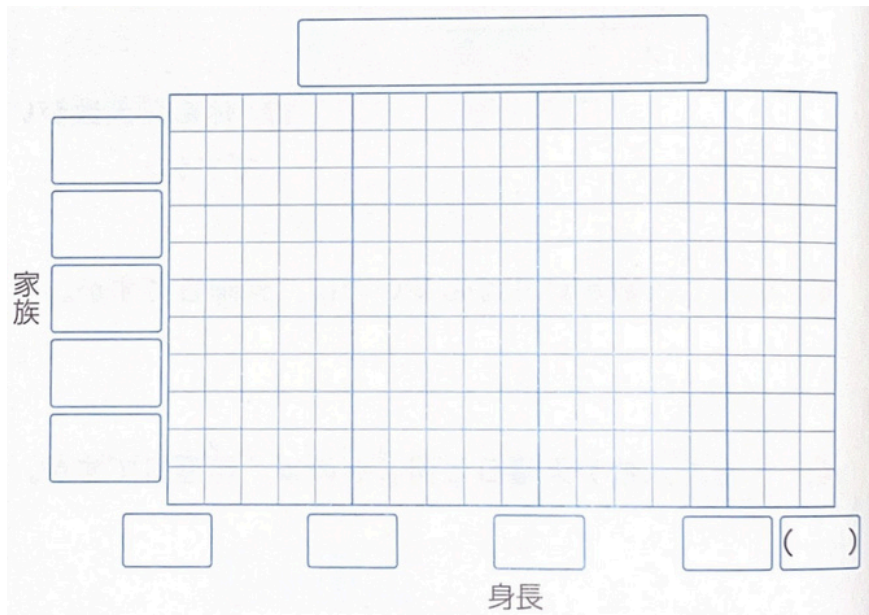
DATA: \_\_\_\_\_

## CAPÍTULO 6 - 3º ANO: TABELA E GRÁFICO

3) A TABELA ABAIXO MOSTRA AS ALTURAS DOS FAMILIARES QUE MIKI MEDIU. VAMOS REPRESENTAR ESSES DADOS EM UM GRÁFICO DE BARRAS.

家族の身長調べ

家族	身長(cm)
父	175
母	160
兄	140
みき	135
妹	130



4) A TABELA ABAIXO MOSTRA OS TIPOS DE FERIMENTOS E O NÚMERO DE ALUNOS DO 1º E DO 2º ANO QUE SE MACHUCARAM EM OUTUBRO. ORGANIZE AS DUAS TABELAS EM UMA SÓ.

けが調べ(1年生)		けが調べ(2年生)		けが調べ(人)(1年生と2年生)				
しゅるい	人数(人)	しゅるい	人数(人)	しゅるい	学年	1年生	2年生	合計
すりきず	6	すりきず	5	すりきず		6	5	11
うちみ	4	うちみ	2	うちみ		4	2	
切りきず	8	切りきず	7	切りきず		8		
つき指 <sup>ゆび</sup>	5	つき指	6	つき指				
その他	3	その他	2	その他				
合計	26	合計	22	合計				

① OBSERVANDO A TABELA ACIMA, QUAL É O TOTAL DE ALUNOS (DO 1º E 2º ANO JUNTOS) QUE SE MACHUCARAM?

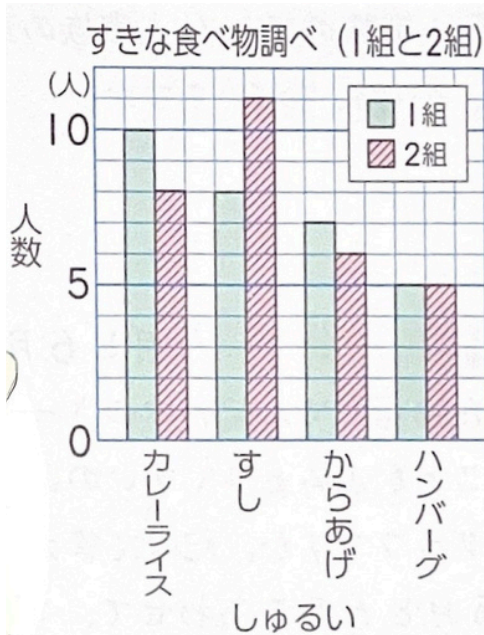
( )

NOME: \_\_\_\_\_

DATA: \_\_\_\_\_

## CAPÍTULO 6 - 3º ANO: TABELA E GRÁFICO

5) O GRÁFICO À DIREITA MOSTRA O NÚMERO DE ALUNOS DA TURMA 1 E DA TURMA 2 DE ACORDO COM SUAS COMIDAS FAVORITAS.



① QUAL É O TOTAL DE ALUNOS DA TURMA 1?

( )

② COMPARANDO A TURMA 1 COM A TURMA 2, QUAIS SÃO OS ALIMENTOS EM QUE A TURMA 2 TEM MAIS ALUNOS?

( )

③ ENTRE A TURMA 1 E A TURMA 2, EM QUAL DELAS HÁ MAIS PESSOAS QUE GOSTAM DE FRANGO FRITO (からあげ)?

( )



NOME: \_\_\_\_\_

DATA: \_\_\_\_\_

## CAPÍTULO 6 - 3º ANO: TABELA E GRÁFICO

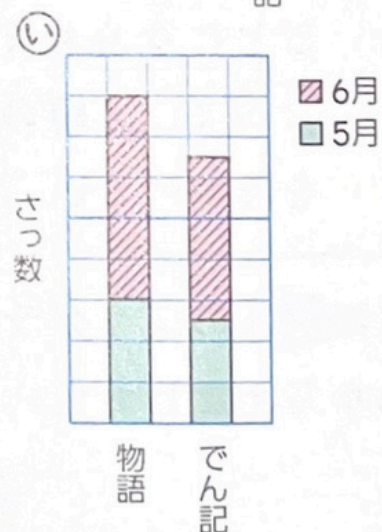
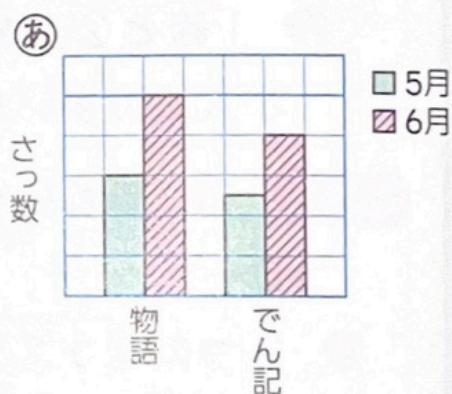
7) FOI PESQUISADO O NÚMERO DE LIVROS DE HISTÓRIAS (物語) E BIOGRAFIAS (でん記) EMPRESTADOS DA BIBLIOTECA EM MAIO (5月) E JUNHO (6月). PARA CADA SITUAÇÃO ABAIXO, QUAL GRÁFICO あ OU い, À DIREITA, FACILITA MAIS A LEITURA? RESPONDA COM O SÍMBOLO.

① CONSIDERANDO MAIO E JUNHO JUNTOS, QUAL FOI MAIS EMPRESTADO: HISTÓRIAS OU BIOGRAFIAS?

( )

② EM QUAL MÊS HOUVE MAIS EMPRÉSTIMOS DE LIVROS DE HISTÓRIAS: MAIO OU JUNHO?

( )





# CAPÍTULO 6 - 3º ANO: TABELA E GRÁFICO. FOLHA DE RESPOSTAS

1)

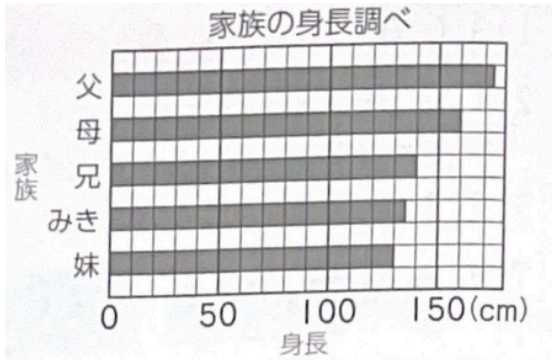
いちご	正
メロン	下
りんご	一
ぶどう	上
さくらんぼ	下
バナナ	一

しゅるい	人数(人)
いちご	5
メロン	3
ぶどう	2
さくらんぼ	3
その他	2
合計	15

2)

- |       |       |
|-------|-------|
| ① 1人  | ② 7人  |
| ③ 金曜日 | ④ 月曜日 |
| ⑤ 木曜日 |       |

3)



4)

しゅるい けが調べ(人) (1年生と2年生)

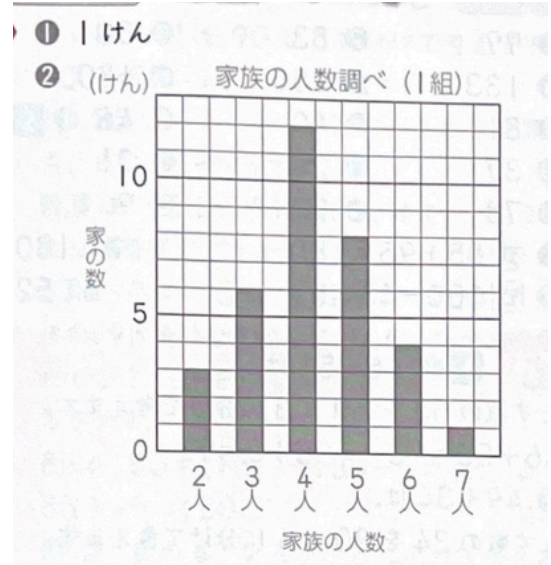
しゅるい	学年	1年生	2年生	合計
すりきず		6	5	11
うちみ		4	2	6
切りきず		8	7	15
つき指		5	6	11
その他		3	2	5
合計		26	22	★48

① 48人 (pessoas)

5)

- ① 30人 (pessoas)
- ② すし (sushi)
- ③ 1組 (turma 1)

6)



7)

- ③ 4人家族
- ④ 7人家族
- ⑤ 4けん

8)

- ① 日曜日
- ② 25分
- ③ 火曜日

9)

