

NOME: _____

DATA: _____

CAPÍTULO 6 - 2º ANO: NÚMEROS MAIORES QUE 100 (PARTE 1)

UM GRUPO DE 100 É CHAMADO DE UMA CENTENA

3 CENTENAS = 300

$300 + 24 = 324$

ESSE NÚMERO SE LÊ: TREZENTOS E VINTE E QUATRO

O NÚMERO 324 É FORMADO POR:

- 100 → 3
- 10 → 2
- 1 → 4

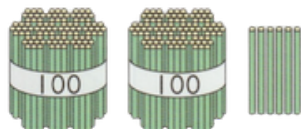
OU SEJA:

324 = 3 CENTENAS + 2 DEZENAS + 4 UNIDADES

- 3 → 百のくらい (CENTENA)
- 2 → 十のくらい (DEZENA)
- 4 → 一のくらい (UNIDADE)

3	2	4
百のくらい	十のくらい	一のくらい

1. QUANTOS HÁ? ESCREVA COM NÚMEROS.



()

2. ESCREVA USANDO NÚMEROS.

① 百十八

()

② 五百三十一

()

③ 七百九

()

3. ESCREVA O NÚMERO FORMADO POR:

- 6 CENTENAS
- 7 DEZENAS
- 3 UNIDADES

()

4. QUAL É O NÚMERO FORMADO JUNTANDO 32 DEZENAS (10)?

()

5. O NÚMERO 270 É FORMADO POR QUANTAS DEZENAS?

()

6. COM 25 DEZENAS FORMAMOS O NÚMERO?

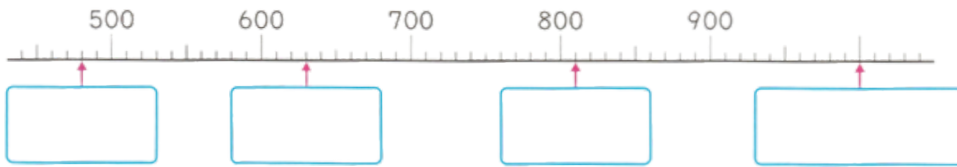
()

7. QUANTAS DEZENAS FORMAM O NÚMERO 380? ()

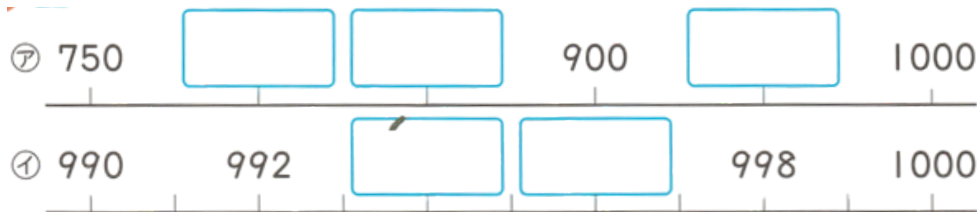
8. COMPLETE COM O NÚMERO CORRETO:

- ① O NÚMERO QUE É ___ MAIOR QUE 990 É 1000.
② ___ É O NÚMERO FORMADO POR 100 GRUPOS DE 10.

9. ESCREVA OS NÚMEROS INDICADOS PELAS SETAS:



10. COMPLETE A SEQUÊNCIA:



11. HARUTO, KENTO E YUMA TÊM MUITAS CARTAS. COMPARE OS NÚMEROS E ESCREVA USANDO > OU <.

カードの 数

- ① はるとさんと けんとさん ② はるとさんと ゆうまさん

() ()

はるとさん	けんとさん	ゆうまさん
205	189	207

12. COMPARE DOIS NÚMEROS E ESCREVA USANDO > OU <.

- ① 765 657 ② 605 619

() ()

NOME: _____

DATA: _____

CAPÍTULO 6 - 2º ANO: NÚMEROS MAIORES QUE 100 ADIÇÃO E SUBTRAÇÃO (PARTE 1)

1. VAMOS AO MERCADO:

① COMPRANDO BERINJELA E TOMATE, QUANTO DÁ?

しき

答え ()



② TENHO 140 IENES. SE COMPRAR PEPINO, QUANTO SOBRA?

しき

答え ()

2. CÁLCULO DIRETO:

① $60 + 80 =$

② $110 - 90 =$

3. COMPRAS (SITUAÇÃO-PROBLEMA)

① COMPRANDO UVA E MANGA, QUANTO DÁ?

しき

答え ()



② TENHO 1000 IENES. SE COMPRAR MELÃO, QUANTO SOBRA?

しき

答え ()

4. CÁLCULO DIRETO:

1. $700 + 100 =$

2. $800 - 500 =$

3. $400 + 600 =$

4. $1000 - 300 =$

5. COMPLETE COM >, < OU =.

① $50 + 60$ 100

② 100 $160 - 50$

③ 100 $160 - 60$

④ 100 $120 - 40$

NOME: _____

DATA: _____

CAPÍTULO 6 - 2º ANO: NÚMEROS MAIORES QUE 100 (PARTE 1)- TESTE DE REVISÃO

1. ESCREVA EM NÚMEROS:

① 九百十六

()

② 四百一

()

2. VAMOS ESCREVER EM NÚMEROS.

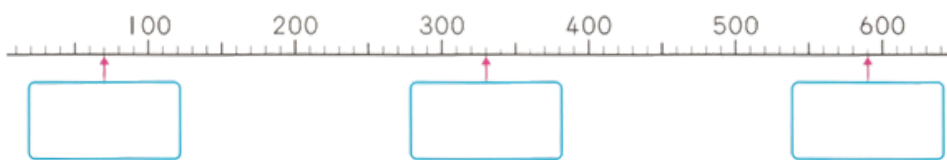
① O NÚMERO FORMADO JUNTANDO 7 CENTENAS E 6 DEZENAS.

()

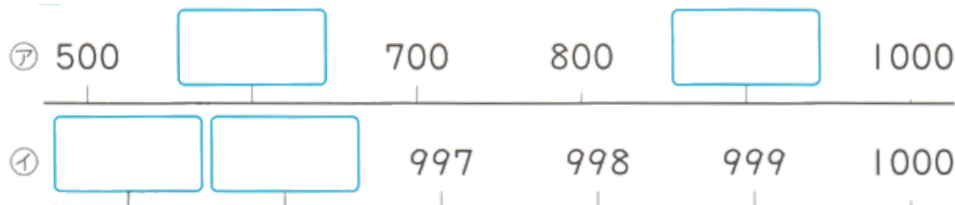
② 400 É UM NÚMERO FORMADO POR QUANTOS GRUPOS DE 10?

()

3. OBSERVANDO AS SETAS ESCREVA O NÚMERO INDICADO:



4. VAMOS ESCREVER O NÚMERO INDICADO:



5. COMPARE DOIS NÚMEROS E ESCREVA USANDO > OU <.

① 798 879

()

② 510 501

()

()

6. VAMOS CALCULAR.

① $40 + 90$

② $800 + 200$

③ $600 - 100$

7. USE >, < OU = E ESCREVA A EXPRESSÃO.

① $30 + 80$ 100

()

② 100 $130 - 50$

()

()

CAPÍTULO 6 - 2º ANO: NÚMEROS MAIORES QUE 100 ADIÇÃO E SUBTRAÇÃO (PARTE 1)

1. QUESTÃO

206

2. QUESTÃO

1. 百十八 → 118
2. 五百三十一 → 531
3. 七百九 → 709

3. QUESTÃO

CÁLCULO:

$$600 + 70 + 3 = 673$$

4. QUESTÃO

$$300 + 20 = 320$$

RESPOSTA:

10を32こ → 320

5. QUESTÃO

$$20 + 7 = 27$$

RESPOSTA:

270 É FORMADO POR 27 DEZENAS

6. QUESTÃO

$$25 \times 10 = 250$$

RESPOSTA: 250

7. QUESTÃO

$$380 \div 10 = 38$$

RESPOSTA: 38 DEZENAS

8. QUESTÃO

- ① 10
- ② 1000

9. QUESTÃO

520

650

780

930

10. QUESTÃO

(ア) NÚMEROS QUE FALTAM:

- 800
- 850
- 950

(イ) NÚMEROS QUE FALTAM:

- 994
- 996

11. QUESTÃO

① はるとさんと けんとさん
 $205 > 189$

② はるとさんと ゆうまさん
 $205 < 207$

12. QUESTÃO

① 765 と 657

$$765 > 657$$

② 605 と 619

$$605 < 619$$

NÚMEROS MAIORES QUE 100 ADIÇÃO E SUBTRAÇÃO (PARTE 1)

1. QUESTÃO

①式: $60 + 90 = 150$

答え: 150円

②式: $140 - 50 = 90$

答え: 90円

2. QUESTÃO

① $60 + 80 = 140$

② $110 - 90 = 20$

3. QUESTÃO

①式: $400 + 500 = 900$

答え: 900円

②式: $1000 - 800 = 200$

答え: 200円

4. QUESTÃO

1. $700 + 100 = 800$

2. $800 - 500 = 300$

3. $400 + 600 = 1000$

4. $1000 - 300 = 700$

5. QUESTÃO

① $50 + 60 = 110$

$$110 > 100$$

② $160 - 50 = 110$

$$100 < 110$$

③ $160 - 60 = 100$

$$100 = 100$$

④ $120 - 40 = 80$

$$100 > 80$$

CAPÍTULO 6 - 2º ANO: NÚMEROS MAIORES QUE 100 ADIÇÃO E SUBTRAÇÃO (PARTE 1)- TESTE DE REVISÃO

1. QUESTÃO

- ① 九百十六 → 916
- ② 四百一 → 401

2. QUESTÃO

- ① $700 + 60 = 760$
- ② $400 \div 10 = 40$ こ

3. QUESTÃO

- 1ª SETA: 100
- 2ª SETA: 350
- 3ª SETA: 600

4. QUESTÃO

- ア LINHA: $500 \rightarrow \square \rightarrow 700 \rightarrow 800 \rightarrow \square \rightarrow 1000$
- PRIMEIRO $\square = 600$
 - SEGUNDO $\square = 900$
- イ LINHA: $\square \rightarrow \square \rightarrow 997 \rightarrow 998 \rightarrow 999 \rightarrow 1000$
- PRIMEIRO $\square = 995$
 - SEGUNDO $\square = 996$

5. QUESTÃO

- ① 798 と 879
→ $798 < 879$
- ② 510 と 501
→ $510 > 501$

6. QUESTÃO

- ① $40 + 90 = 130$
- ② $800 + 200 = 1000$
- ③ $600 - 100 = 500$

7. QUESTÃO

- ① $30 + 80 = 110$
 $110 > 100$
 $30 + 80 > 100$
- ② $130 - 50 = 80$
 $100 > 80$
 $100 > 130 - 50$