


NOME: \_\_\_\_\_

DATA: \_\_\_\_\_


## CAPÍTULO 3 - 2º ANO: HORA E DURAÇÃO DO TEMPO.

1) QUAL É A DURAÇÃO DOS SEGUINTE INTERVALOS DE TEMPO?


① DAS 7:00 ÀS 7:12




② DAS 1:00 ÀS 1:30



③ DAS 4:30 ÀS 5:00




④ DAS 7:40 ÀS 8:00




2) VAMOS DIZER OS HORÁRIOS A SEGUIR.

① O HORÁRIO 30 MINUTOS DEPOIS DE 9:00



② O HORÁRIO 1 HORA DEPOIS DE 3:45



③ O HORÁRIO 1 HORA ANTES DE 5:50



④ O HORÁRIO 30 MINUTOS ANTES DE 6:40



NOME: \_\_\_\_\_

DATA: \_\_\_\_\_


### CAPÍTULO 3 - 2º ANO: HORA E DURAÇÃO DO TEMPO.

3) AGORA SÃO 2:25. VAMOS DIZER OS HORÁRIOS A SEGUIR.

① O HORÁRIO 30 MINUTOS DEPOIS



② O HORÁRIO 30 MINUTOS ANTES



4) DIGA O HORÁRIO DO RELÓGIO USANDO “AM (MANHÃ)” OU “PM (TARDE/NOITE)”.

①



朝



午前 ごぜん

MANHÃ

午後 ごご

TARDE / NOITE



②



よる

夜



朝

DIA

夜

NOITE




5) OBSERVE O RELÓGIO ABAIXO E RESPONDA.


午後



① O HORÁRIO 30 MINUTOS DEPOIS



② QUANTO TEMPO FALTA ATÉ 4:20 DA TARDE



Nome: \_\_\_\_\_

Data: \_\_\_\_\_

### CAPÍTULO 3 - 2º ANO: HORA E DURAÇÃO DO TEMPO.

6) SAYAKA FOI AO CINEMA COM A FAMÍLIA. QUAL É A DURAÇÃO DO FILME, DO INÍCIO ATÉ O FIM?

**INICIO** **FIM**

えい画が 始まった 時こく      えい画が おわった 時こく

午前      午後      (      )

7) YUTA FOI AO AQUÁRIO COM A FAMÍLIA. VAMOS DIZER OS SEGUINTE HORÁRIOS E DURAÇÕES.

午前 9 時 出かける じゅんぴを 始める

午前 11 時 家を出る

午後 1 時 20 分 ひるごはんを 食べはじめる

午後 2 時 から 午後 2 時 45 分 まで イルカの ショー

午後 3 時 30 分 から 午後 4 時 まで アシカの ショー

午後 5 時 家につく

① O HORÁRIO 1 HORA DEPOIS DE COMEÇAR A SE PREPARAR PARA SAIR

(      )

② O HORÁRIO 40 MINUTOS DEPOIS DE SAIR DE CASA


(      )

NOME: \_\_\_\_\_


DATA: \_\_\_\_\_

## CAPÍTULO 3 - 2º ANO: HORA E DURAÇÃO DO TEMPO.


③ O HORÁRIO 30 MINUTOS DEPOIS DE COMEÇAR O ALMOÇO




④ A DURAÇÃO DO SHOW DOS GOLFINHOS (DO INÍCIO AO FIM)



⑤ A DURAÇÃO DO SHOW DOS LEÕES-MARINHOS (DO INÍCIO AO FIM)




⑥ O TEMPO DESDE A SAÍDA DE CASA ATÉ A CHEGADA DE VOLTA




8) QUAL É A DURAÇÃO DOS SEGUINTE INTERVALOS DE TEMPO?

① DAS 10:00 ÀS



② DAS 3:40 ÀS



NOME: \_\_\_\_\_

DATA: \_\_\_\_\_

## CAPÍTULO 3 - 2º ANO: HORA E DURAÇÃO DO TEMPO.

9) AGORA SÃO 9:35. VAMOS DIZER OS HORÁRIOS A SEGUIR.

① 30 MINUTOS ANTES

( )

② 30 MINUTOS DEPOIS

( )



10) ESCREVA O NÚMERO QUE COMPLETA O QUADRADO.

① | 時間 =  分

② | 日 =  時間

11) DIGA O HORÁRIO DO RELÓGIO USANDO “AM (MANHÃ)” OU “PM (TARDE/NOITE)”.

① ( )

② ( )

12) OBSERVE O RELÓGIO À DIREITA QUE MARCA 8:40 DA MANHÃ E RESPONDA.

① O HORÁRIO 30 MINUTOS ANTES

( )

② QUANTO TEMPO FALTA ATÉ 8:55 DA MANHÃ

( )



# CAPÍTULO 3 - 2º ANO: HORA E DURAÇÃO DO TEMPO

## FOLHA DE RESPOSTAS

1)

- ① 12 minutos (分)
- ② 30 minutos
- ③ 30 minutos
- ④ 20 minutos

2)

- ① 9:30 (9時30分)
- ② 4:45
- ③ 4:50
- ④ 6:10

3)

- ① 2:55
- ② 1:55

4)

- ① 7 da manhã
- ② 8:48 da noite

5)

- ① 4:30 da tarde
- ② 20 minutos

6) 3 horas (時間)

7)

- ① 10:00 da manhã
- ② 11:40 da manhã
- ③ 1:50 da tarde
- ④ 45 minutos
- ⑤ 30 minutos
- ⑥ 6 horas

8)

- ① 24 minutos
- ② 20 minutos

9)

- ① 9:05
- ② 10:05

10)

- ① 60、24

11)

- ① 7:50 da manhã
- ② 9:20 da tarde

12)

- ① 8:10 da manhã
- ② 15 minutos