


NOME: _____

DATA: _____

CAPÍTULO 2 - 2º ANO: ADIÇÃO E SUBTRAÇÃO

1) QUANTO É 23 MAIS 7?



2) VAMOS FAZER OS CÁLCULOS A SEGUIR.

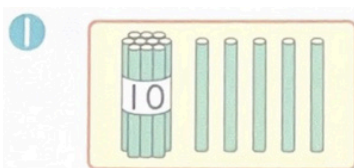
1 $12 + 8$

2 $19 + 1$

3 $34 + 6$

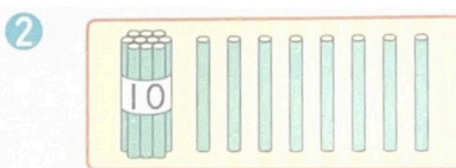
4 $83 + 7$

3) QUANTO DEVEMOS SOMAR AOS NÚMEROS A SEGUIR PARA CHEGAR A 20?




15

()



18


()



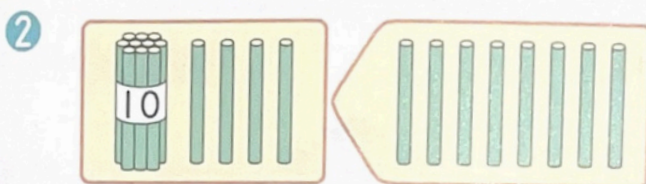
11

()

4) VAMOS FAZER OS CÁLCULOS A SEGUIR.



$37 + 4$



$14 + 8$

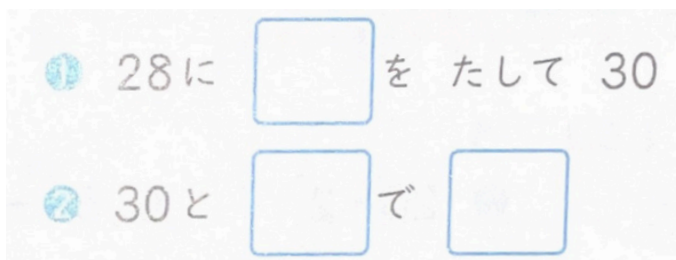
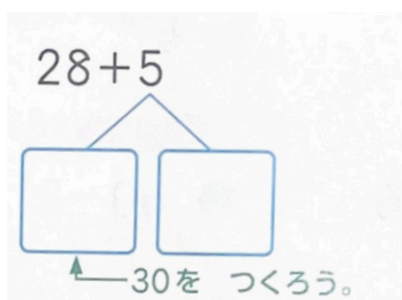
NOME: _____

DATA: _____

CAPÍTULO 2 - 2º ANO: ADIÇÃO E SUBTRAÇÃO

5) ESCREVA O NÚMERO QUE COMPLETA O QUADRADO.

① QUAL NÚMERO PRECISAMOS PARA FORMAR 30?



② 30 MAIS _____ FORMA _____?

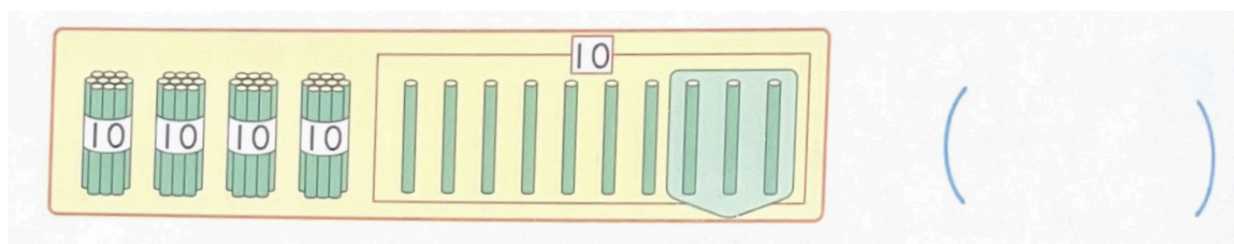
VAMOS DIVIDIR O 5 EM 2
NÚMEROS PARA FORMAR 30.

QUAIS NÚMEROS PRECISAMOS
PARA FORMAR 30?

6) VAMOS FAZER OS CÁLCULOS A SEGUIR.

- ① $17+8$ ② $59+2$ ③ $34+9$ ④ $77+5$

7) QUANTO É 50 MENOS 3?



8) VAMOS FAZER OS CÁLCULOS A SEGUIR.

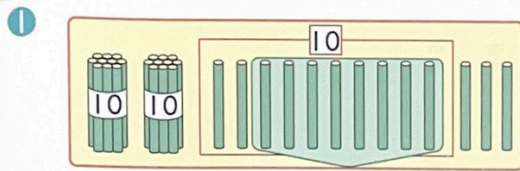
- ① $20-9$ ② $20-2$ ③ $50-6$ ④ $60-3$
⑤ $50-1$ ⑥ $70-8$ ⑦ $40-7$ ⑧ $90-4$

NOME: _____

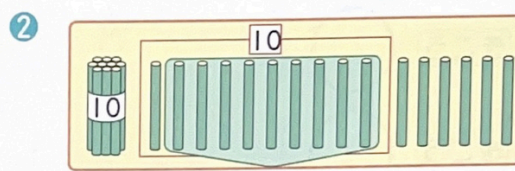
DATA: _____

CAPÍTULO 2 - 2º ANO: ADIÇÃO E SUBTRAÇÃO

9) VAMOS FAZER OS CÁLCULOS A SEGUIR.

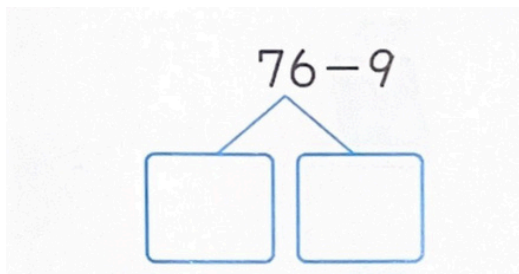


$33 - 8$



$26 - 9$

10) ESCREVA O NÚMERO QUE COMPLETA O QUADRADO.



DIVIDA O 76 EM DEZENAS E UNIDADES.

① QUAL NÚMERO QUE SUBTRAINDO 9 FORMA 61?

① から 9 を ひいて 61

② と で

② _____ E _____ FORMA _____ ?

11) VAMOS FAZER OS CÁLCULOS A SEGUIR.

① 23 - 6


② 51 - 7

③ 47 - 8

④ 82 - 5

12) HÁ 26 LIVROS ILUSTRADOS E 9 ENCIC

① QUANTOS HÁ AO TODO?



しき

答え ()

② QUAL É A DIFERENÇA?

しき

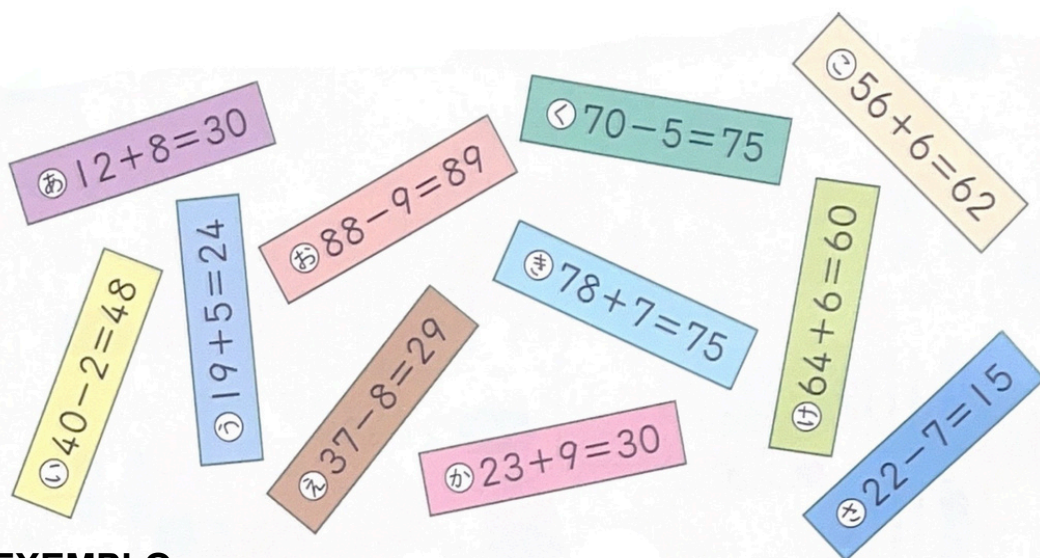
答え ()

NOME: _____

DATA: _____

CAPÍTULO 2 - 2º ANO: ADIÇÃO E SUBTRAÇÃO

13) ESCOLHA, PELO HIRAGANA, O CARTÃO QUE ESTÁ COM A RESPOSTA ERRADA E ESCREVA A RESPOSTA CORRETA.



EXEMPLO:

[れい] きごう **あ** (20)

きごう	<input type="radio"/>	()	きごう	<input type="radio"/>	()
きごう	<input type="radio"/>	()	きごう	<input type="radio"/>	()
きごう	<input type="radio"/>	()	きごう	<input type="radio"/>	()

14) VAMOS FAZER OS CÁLCULOS A SEGUIR.

- | | | | |
|----------|----------|----------|----------|
| ① $13+7$ | ② $45+5$ | ③ $18+8$ | ④ $76+9$ |
| ⑤ $20-3$ | ⑥ $80-8$ | ⑦ $24-5$ | ⑧ $61-4$ |

CAPÍTULO 2 - 2º ANO: ADIÇÃO E SUBTRAÇÃO

FOLHA DE RESPOSTAS

1) 30

2)

① 20 ② 20 ③ 40 ④ 90

3)

① 5 ② 2 ③ 9

4)

① 41 ② 22

5)

28+5

① 28に **2** を たして 30

② 30と **3** で **33**

←30をつくらう。

The diagram shows the number 28 broken down into 2 and 8. The 2 is added to 5 to make 7, and the 8 is added to 7 to make 15. The final result is 33.

6)

① 25 ② 61 ③ 43 ④ 82

7) 47

8)

① 11 ② 18 ③ 44 ④ 57

⑤ 49 ⑥ 62 ⑦ 33 ⑧ 86

9)

① 25 ② 17

10)

76-9

① **70** から 9を ひいて 61

② **61** と **6** で **67**

The diagram shows the number 76 broken down into 70 and 6. 9 is subtracted from 70 to get 61, and then 6 is added to 61 to get 67.

11)

① 17 ② 44 ③ 39 ④ 77

12)

①式: $26 + 9 = 35$ 答え 35 livros (さつ)

②式: $26 - 9 = 17$ 答え 17 livros (さつ)

13)

い、38 お、79 か、32

き、85 く、65 け、70

14)

① 20 ② 50 ③ 26 ④ 85

⑤ 17 ⑥ 72 ⑦ 19 ⑧ 57