

NOME: _____

DATA: _____

CAPÍTULO 11 - 2º ANO: MULTIPLICAÇÃO (2) かけ算②

COMPLETE A TABUADA:

$6 \times 1 = (\quad)$

$6 \times 2 = (\quad)$

$6 \times 3 = (\quad)$

$6 \times 4 = (\quad)$

$6 \times 5 = (\quad)$

$6 \times 6 = (\quad)$

$6 \times 7 = (\quad)$

$6 \times 8 = (\quad)$

$6 \times 9 = (\quad)$



1. HÁ 3 CAIXAS DE BOLO, CADA CAIXA COM 6 UNIDADES. AO TODO, QUANTOS BOLOS HÁ?

しき

答え ()



2. VAMOS DISTRIBUIR LÁPIS. SE ENTREGARMOS 6 LÁPIS PARA CADA UMA DAS 7 CRIANÇAS, QUANTOS LÁPIS SÃO NECESSÁRIOS?

しき

答え ()



COMPLETE A TABUADA DO 7:

$7 \times 1 = (\quad)$

$7 \times 2 = (\quad)$

$7 \times 3 = (\quad)$

$7 \times 4 = (\quad)$

$7 \times 5 = (\quad)$

$7 \times 6 = (\quad)$

$7 \times 7 = (\quad)$

$7 \times 8 = (\quad)$

$7 \times 9 = (\quad)$




3. UMA SEMANA TEM 7 DIAS. TRÊS SEMANAS TÊM QUANTOS DIAS?

しき

答え ()

日	月	火	水	木	金	土
1	2	3	4	5	6	7
8	9	10	11	12	13	14
15	16	17	18	19	20	21

4. HÁ UMA FITA DE 7 CM. QUAL É O COMPRIMENTO DESSA FITA MULTIPLICADO POR 8?



しき

答え ()

5. VAMOS DISTRIBUIR PAPÉIS COLORIDOS. SE ENTREGARMOS 7 FOLHAS PARA CADA UMA DAS 5 CRIANÇAS, QUANTAS FOLHAS SÃO NECESSÁRIAS NO TOTAL?

しき

答え ()



VAMOS COMPLETAR A TABUADA DO 8:

$8 \times 1 = ()$

$8 \times 2 = ()$

$8 \times 3 = ()$

$8 \times 4 = ()$

$8 \times 5 = ()$

$8 \times 6 = ()$

$8 \times 7 = ()$

$8 \times 8 = ()$

$8 \times 9 = ()$

VAMOS COMPLETAR A TABUADA DO 9:

$9 \times 1 = ()$

$9 \times 2 = ()$

$9 \times 3 = ()$

$9 \times 4 = ()$

$9 \times 5 = ()$

$9 \times 6 = ()$

$9 \times 7 = ()$

$9 \times 8 = ()$

$9 \times 9 = ()$



6. QUAL É O COMPRIMENTO DE UMA FITA DE PAPEL DE 8 CM MULTIPLICADA POR 4?

しき

答え ()

7. HAVERÁ UM JOGO DE FUTEBOL COM 9 TIMES. CADA TIME TEM 8 PESSOAS. QUANTAS PESSOAS HÁ NO TOTAL?

しき

答え ()

8. UMA CAIXA TEM 9 DOCES. EM 7 CAIXAS, QUANTOS DOCES HÁ NO TOTAL?

しき

答え ()

NOME: _____

DATA: _____

CAPÍTULO 11 - 2º ANO: MULTIPLICAÇÃO 2

ATIVIDADE DE REVISÃO

1. COMPREI 6 BALAS QUE CUSTAM 8 IENES CADA, E UM CHOCOLATE DE 70 IENES. QUANTO DEU TUDO NO TOTAL?

PRIMEIRO, VAMOS DESCOBRIR QUANTO CUSTAM AS 6 BALAS.

しき $\square \times \square = \square$



DEPOIS, VAMOS DESCOBRIR O VALOR TOTAL.

しき $\square + \square = \square$

答え \square 円

2. EMPILHAMOS TRÊS BLOCOS DE 8 CM E UM BLOCO DE 4 CM. QUAL É A ALTURA TOTAL?

しき


答え ()



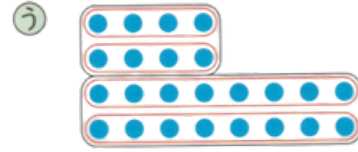
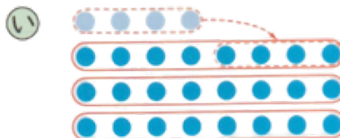
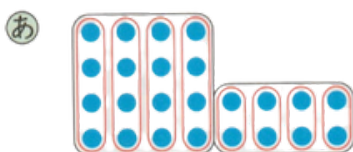
3. NA CAIXA HÁ 4 FILEIRAS COM 6 COOKIES CADA. SE COMEREM 2, QUANTOS RESTAM?

しき

答え ()



4. VOCÊ ESTÁ PENSANDO EM COMO ENCONTRAR A QUANTIDADE DE BOLINHAS. ESCOLHA A EQUAÇÃO QUE COMBINA COM O DESENHO E LIGUE COM UMA LINHA.



$8 \times 3 = 24$

$4 \times 2 = 8, 8 \times 2 = 16$
 $8 + 16 = 24$

$4 \times 4 = 16, 2 \times 4 = 8$
 $16 + 8 = 24$

NOME: _____

DATA: _____

CAPÍTULO 11 - 2º ANO: MULTIPLICAÇÃO 2

TESTE DE REVISÃO

1. VAMOS FAZER AS MULTIPLICAÇÕES.

① 6×7

② 8×6

③ 7×8

④ 1×4

⑤ 6×9

⑥ 9×9

⑦ 7×3

⑧ 9×4

⑨ 8×5

2. VAMOS DISTRIBUIR LÁPIS: 6 LÁPIS POR PESSOA.

① PARA DISTRIBUIR PARA 8 PESSOAS, QUANTOS LÁPIS SÃO NECESSÁRIOS?

しき

答え ()

② AGORA AUMENTOU PARA 9 PESSOAS. QUANTOS LÁPIS A MAIS SÃO NECESSÁRIOS?

しき

答え ()

3. NA FESTA, CADA PESSOA RECEBE 3 DOCES E 1 SUCO. PARA 8 PESSOAS, QUANTOS SUCOS E QUANTOS DOCES SÃO NECESSÁRIOS?

しき





答え (おかし _____ こ、ジュース _____ 本)

4. COMPRAMOS 4 FOLHAS DE PAPEL DE 9 IENES CADA E 1 LÁPIS DE 70 IENES. QUAL É O TOTAL?

しき



答え ()

FOLHA RESPOSTA- CAPÍTULO 11 - 2º ANO: MULTIPLICAÇÃO 2

1. QUESTÃO

しき $6 \times 3 = 18$

答え 18 こ

2. QUESTÃO

しき $6 \times 7 = 42$

答え 42 本

3. QUESTÃO

しき $7 \times 3 = 21$

答え 21 日

4. QUESTÃO

しき $7 \times 8 = 56$

答え 56 cm

5. QUESTÃO

しき $7 \times 5 = 35$

答え 35 まい

6. QUESTÃO

しき $8 \times 4 = 32$

答え 32 cm

7. QUESTÃO

しき $8 \times 9 = 72$

答え 72 人

8. QUESTÃO

しき $9 \times 7 = 63$

答え 63 こ

ATIVIDADE DE REVISÃO

1. QUESTÃO

① しき $8 \times 6 = 48$

② しき $48 + 70 = 118$

答え 118 円


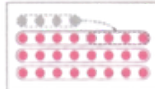
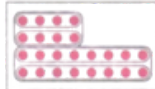
2. QUESTÃO

しき $8 \times 3 = 24$ $24 + 4 = 28$ 答え 28 cm

3. QUESTÃO

しき $6 \times 4 = 24$ $24 - 2 = 22$ 答え 22 こ

4. QUESTÃO

あ  い  う 

$8 \times 3 = 24$ $4 \times 2 = 8, 8 \times 2 = 16$
 $8 + 16 = 24$ $4 \times 4 = 16, 2 \times 4 = 8$
 $16 + 8 = 24$

TESTE DE REVISÃO

1. QUESTÃO

① $6 \times 7 = 42$ ② $8 \times 6 = 48$ ③ $7 \times 8 = 56$

④ $1 \times 4 = 4$ ⑤ $6 \times 9 = 54$ ⑥ $9 \times 9 = 81$

⑦ $7 \times 3 = 21$ ⑧ $9 \times 4 = 36$ ⑨ $8 \times 5 = 40$

2. QUESTÃO

① しき $6 \times 8 = 48$

答え 48 本

② 6 本

3. QUESTÃO

しき $3 \times 8 = 24, 1 \times 8 = 8$

答え おかし 24 こ、ジュース 8 本

4. QUESTÃO

しき $9 \times 4 = 36, 36 + 70 = 106$

答え 106 円