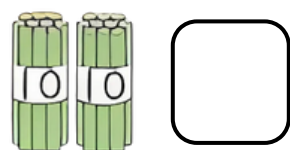




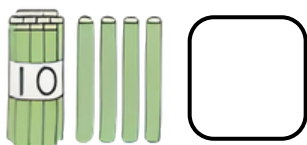
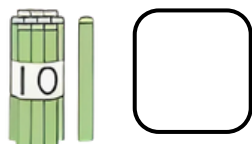


NOME: _____

DATA: _____

CAPÍTULO 9 - 1º ANO: NÚMEROS MAIORES QUE 10

1. ESCREVA OS NÚMEROS EM ALGARISMOS.



2. ESCREVA O NÚMERO QUE ENTRA NO QUADRADO.


10と 5で → (10 + 5 = ___)

10と 3で → (10 + 3 = ___)


10と 1で → (10 + 1 = ___)

10と 6で → (10 + 6 = ___)

3. VOCÊ CONSEGUE CONTAR DE 2 EM 2 OU DE 5 EM 5? CONTE OS OBJETOS E ESCREVA EM NÚMEROS.



4. QUANTAS CRIANÇAS ESTÃO NA FRENTE DO YUTO?



5. ESCREVA O NÚMERO QUE ENTRA NO QUADRADO.

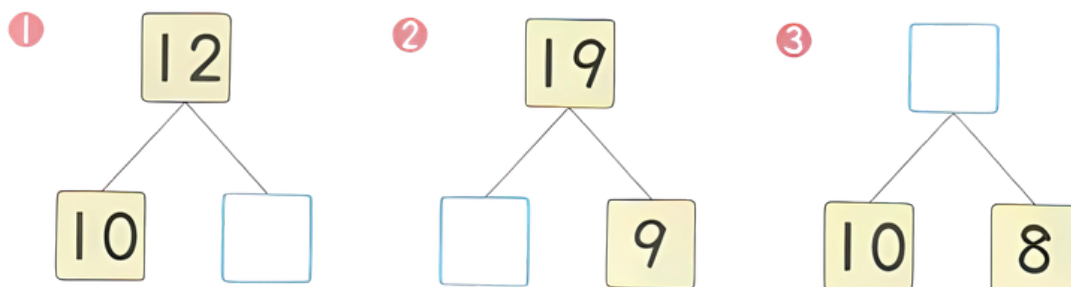
17 É 10 E ($10 + 7 = 17$)

14 É 10 E ($10 + 4 = 14$)


19 É 10 E ($10 + 9 = 19$)

20 É E 10 ($10 + 10 = 20$)

6. ESCREVA OS NÚMEROS QUE ENTRAM NO QUADRADO.



7. ESCREVA O NÚMERO QUE FALTA NO QUADRADO.



8. ESCREVA O NÚMERO QUE FALTA NO QUADRADO.

① 11 — 12 — — — 15 — — 17

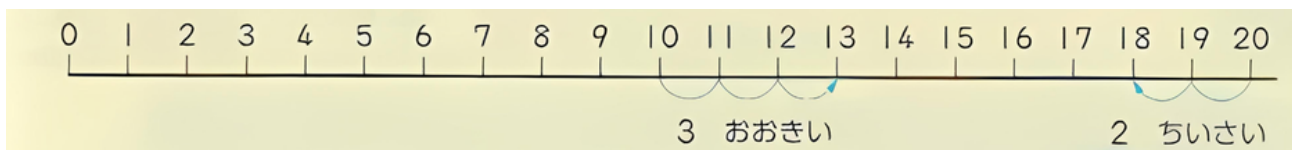
② 14 — 15 — — — 18 — — 20

③ 17 — — 15 — 14 — — — 11

④ 5 — 10 — —

⑤ 8 — — 12 — — 16 — 18 —

9. ESCREVA O NÚMERO QUE ENTRA NO QUADRADO.



10より3 おおきい かずは

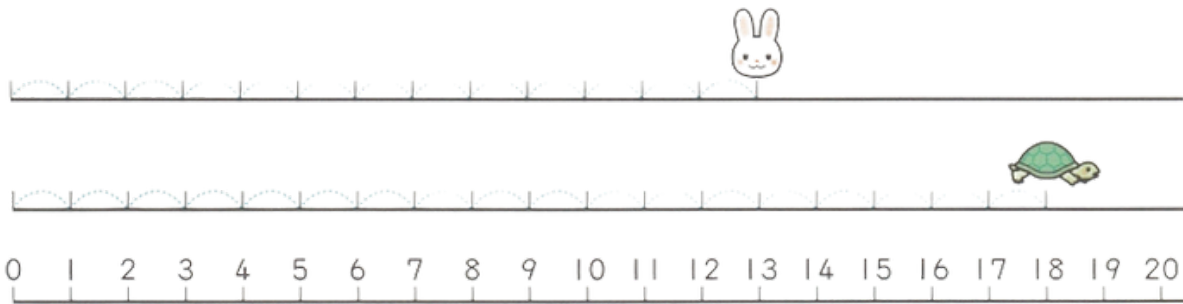
O NÚMERO QUE É 3 MAIOR QUE 10 É →

20より2 ちいさい かずは

O NÚMERO QUE É 2 MENOR QUE 20 É →

VAMOS USAR A LINHA NUMÉRICA PARA PENSAR.

10. ATÉ ONDE VOCÊ AVANÇOU? ESCREVA O NÚMERO.



① 

② 

11. OLHE A LINHA NUMÉRICA E RESPONDA.



12より2 おおきいかず

O NÚMERO 2 MAIOR QUE 12 É (__)

14より4 おおきいかず

O NÚMERO 4 MAIOR QUE 14 É (__)

15より3 ちいさいかず

O NÚMERO 3 MENOR QUE 15 É (__)

18より2 ちいさいかず

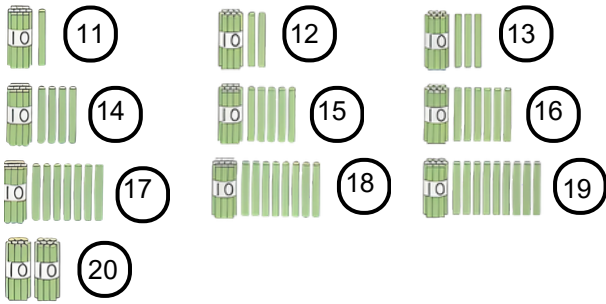
O NÚMERO 2 MENOR QUE 18 É (__)

AQUI APRENDEMOS A CONTAR DE 1 ATÉ 20. TAMBÉM VAMOS ENTENDER COMO OLHAR A RETA NUMÉRICA E USÁ-LA PARA COMPARAR OS NÚMEROS (MAIOR/MENOR).

CAPÍTULO 9 - 1º ANO: NÚMEROS MAIORES QUE 10

Folha de respostas

1)



2)

10と5で → 15 ($10 + 5 = 15$)

10と3で → 13 ($10 + 3 = 13$)

10と1で → 11 ($10 + 1 = 11$)

10と6で → 16 ($10 + 6 = 16$)

3)

1) 12

2) 15

4) 11 crianças

5)

17 é 10 e 7 ($10 + 7 = 17$)

14 é 10 e 4 ($10 + 4 = 14$)

19 é 10 e 9 ($10 + 9 = 19$)

20 é 10 e 10 ($10 + 10 = 20$)

6)

1) 2

2) 10

3) 18

7)

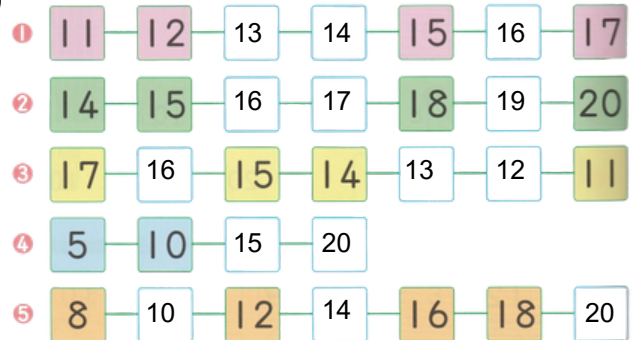
Elefante: 17

Coala: 18

Coelho: 13

Raposa: 10

8)



9)

O número que é 3 maior que 10 é → 13

O número que é 2 menor que 20 é → 18

10) Coelho 13 e tartaruga 18.

11)

O número 2 maior que 12 é 14

O número 4 maior que 14 é 18

O número 3 menor que 15 é 12

O número 2 menor que 18 é 16