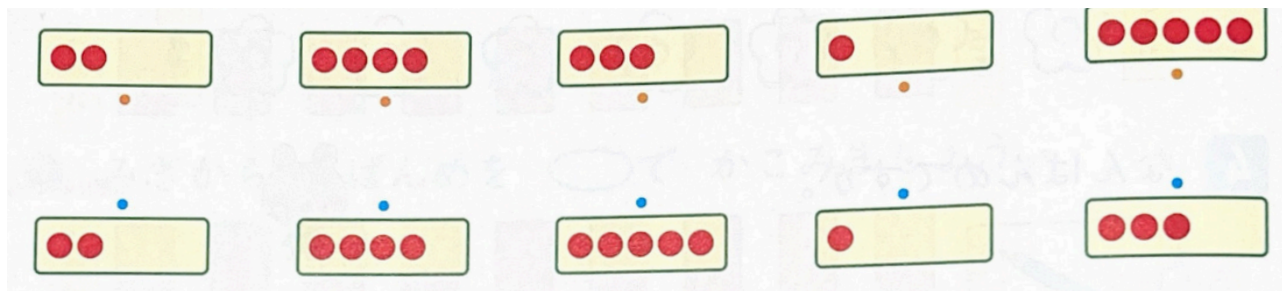


NOME: \_\_\_\_\_

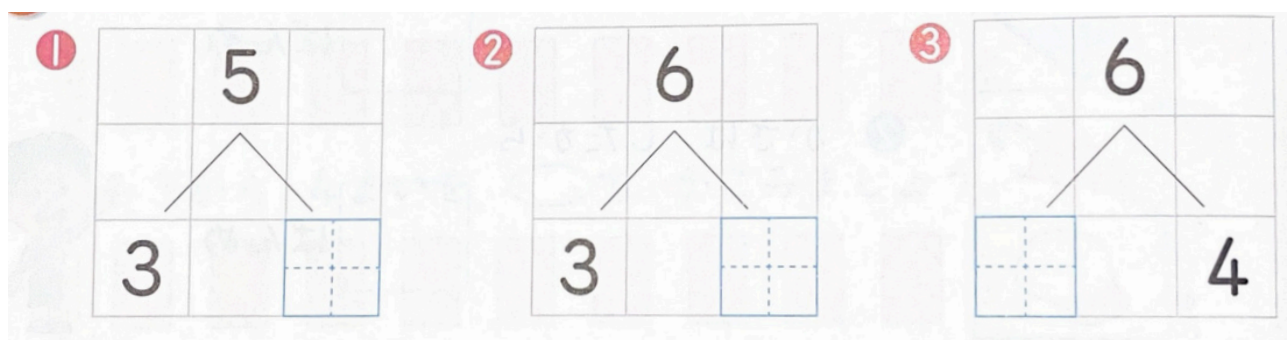
DATA: \_\_\_\_\_

## CAPÍTULO 3 - 1º ANO: QUANTOS E QUANTOS?

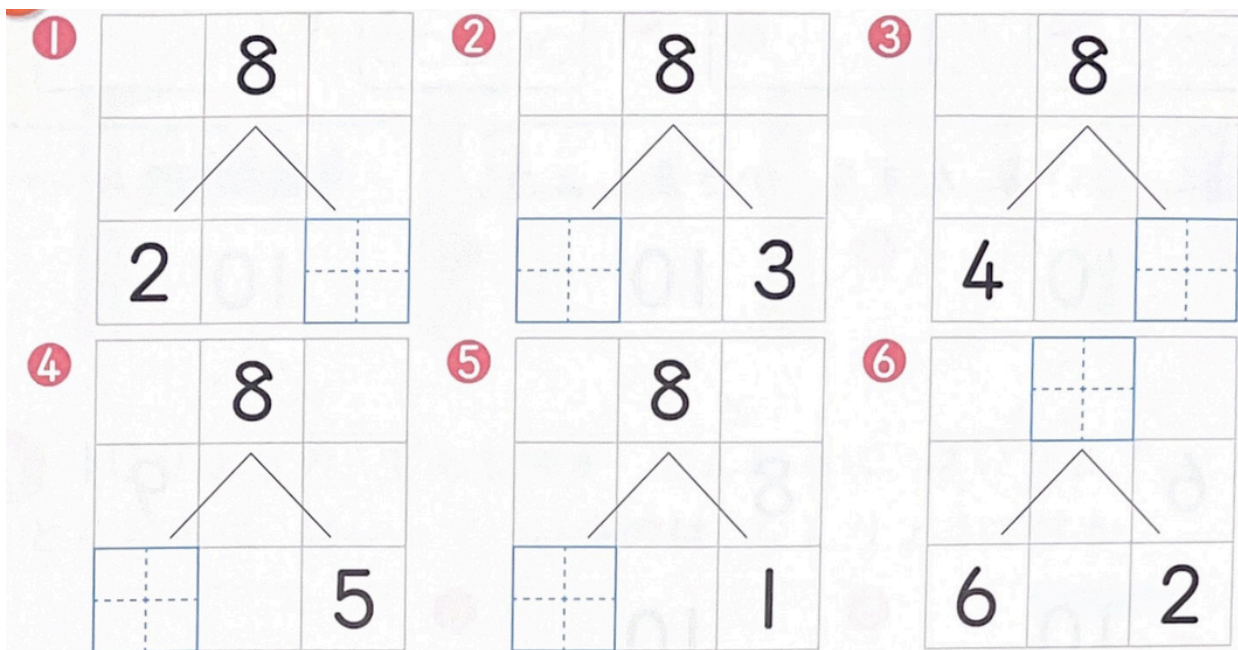
1) LIGUE COM UMA LINHA AS CARTAS DE CIMA E AS DE BAIXO DE MODO QUE SOMEM 6.



2) ESCREVA O NÚMERO QUE ENTRA NO QUADRADO.



3) ESCREVA O NÚMERO QUE ENTRA NO QUADRADO.



NOME: \_\_\_\_\_

DATA: \_\_\_\_\_

### CAPÍTULO 3 - 1º ANO: QUANTOS E QUANTOS?

4) LIGUE COM UMA LINHA PARA FORMAR 9.

1 3 6 7 8 2 5 4

6 8 2 3 1 4 5 7

5) ESCREVA O NÚMERO QUE ENTRA NO QUADRADO.

1 10 6

2 10 8

3 10 9

4 10 3

5 10 5

6 10 4 6

6) VAMOS DIVIDIR O NÚMERO 10 EM 2 PARTES. ESCREVA O NÚMERO QUE ENTRA NO QUADRADO.

1 10は 6と

2 10は 8と

3 10は 3と

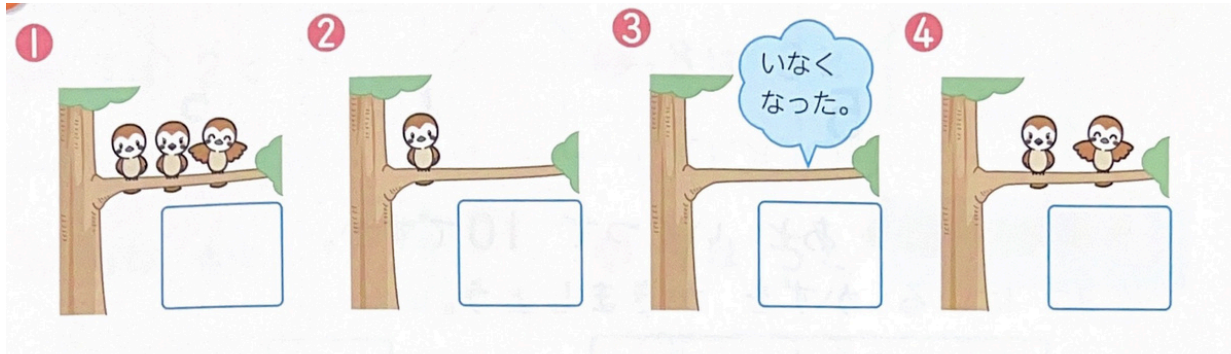
4 10は 1と

NOME: \_\_\_\_\_

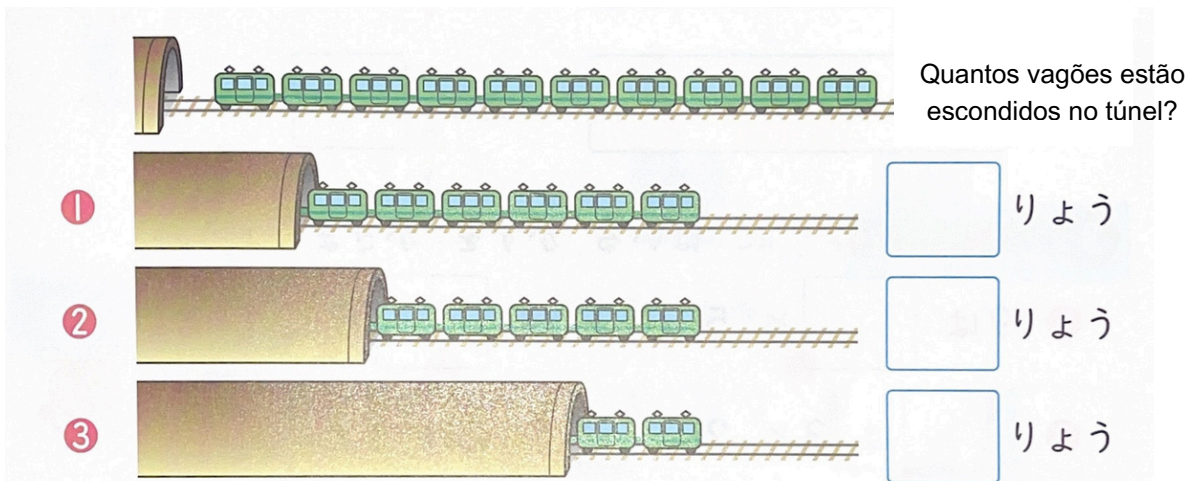
DATA: \_\_\_\_\_

## CAPÍTULO 3 - 1º ANO: QUANTOS E QUANTOS?

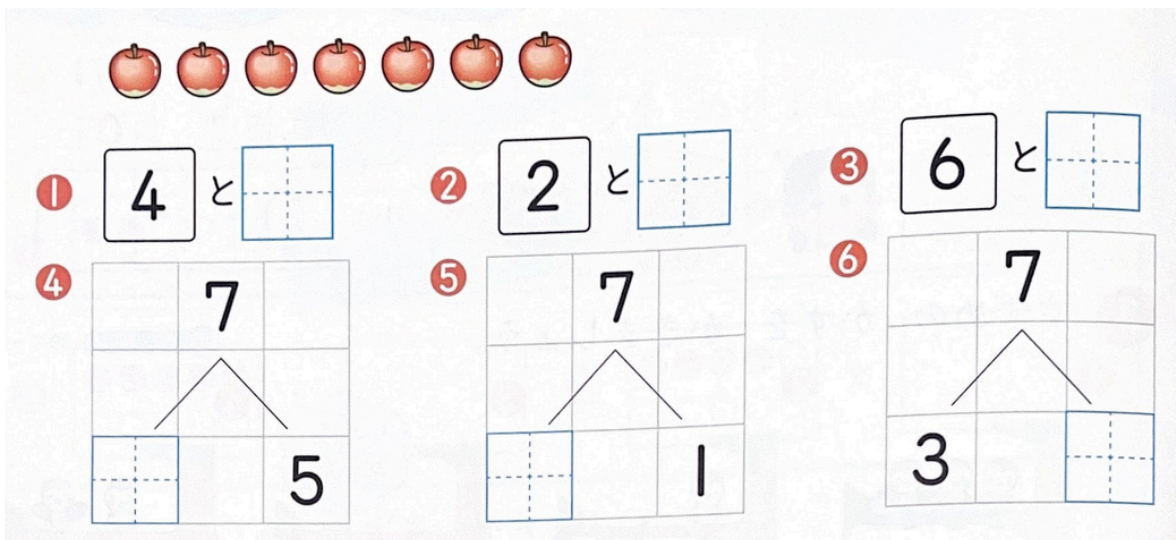
7) ESCREVA O NÚMERO DE PARDAIS.



8) UM TREM COM 10 VAGÕES ENTRA NO TÚNEL. QUANTOS VAGÕES ESTÃO DENTRO DO TÚNEL?



9) VAMOS DIVIDIR O NÚMERO 7 EM 2 PARTES, ESCREVA NOS QUADRADOS OS NÚMEROS QUE COMPLETAM.





NOME: \_\_\_\_\_


DATA: \_\_\_\_\_

### CAPÍTULO 3 - 1º ANO: QUANTOS E QUANTOS?

10) QUANTO FALTA PARA CHEGAR A 10? ESCREVA O NÚMERO QUE COMPLETA NOS QUADRADOS.

①  あと  つ

②  あと  つ

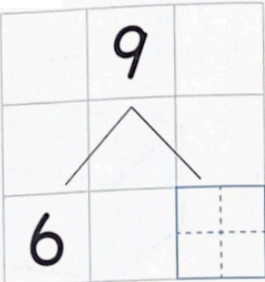
③  あと  つ

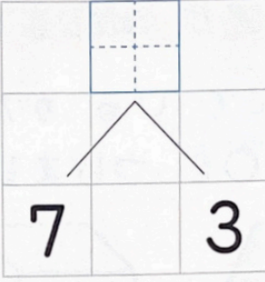
11) ESCREVA O NÚMERO QUE ENTRA NO QUADRADO.

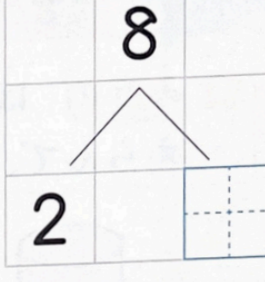
① 9は  と 5      ②  と 2で 8

③  は 3と 2      ④ 8は 1と

12) ESCREVA O NÚMERO QUE ENTRA NO QUADRADO.

① 

② 

③ 

13) VAMOS DIVIDIR O NÚMERO EM 2 PARTES. ESCREVA NOS QUADRADOS OS NÚMEROS QUE COMPLETAM.

① 7は 2と   
○○○○○○○

② 8は 3と   
○○○○○○○○○

③ 6は 4と   
○○○○○○○


④ 9は 5と   
○○○○○○○○○

NOME: \_\_\_\_\_


DATA: \_\_\_\_\_

### CAPÍTULO 3 - 1º ANO: QUANTOS E QUANTOS?

14) LIGUE COM UMA LINHA PARA FORMAR 10.

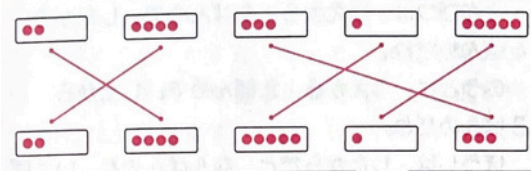


15) ESCREVA O NÚMERO DAS MAÇÃS.

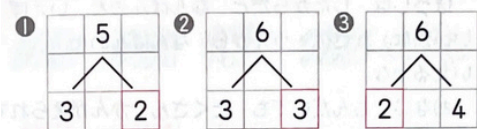


# CAPÍTULO 3 - 1º ANO: QUANTOS E QUANTOS? FOLHA DE RESPOSTAS

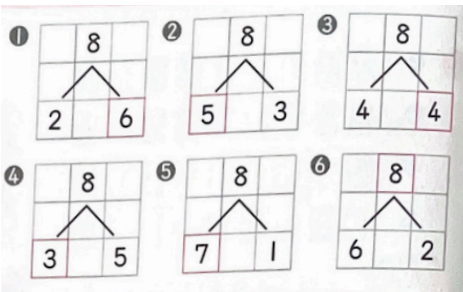
1)



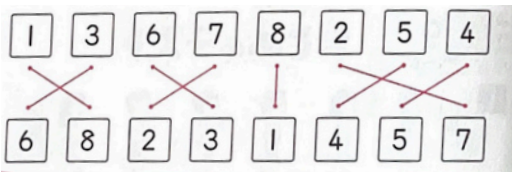
2)



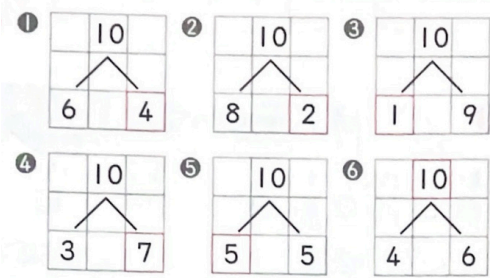
3)



4)



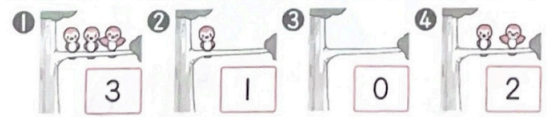
5)



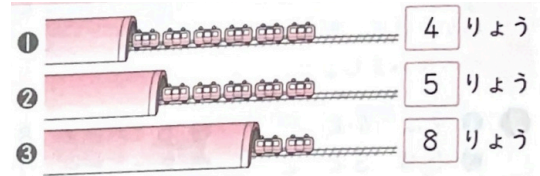
6)

- ① 10は 6と 4
- ② 10は 8と 2
- ③ 10は 3と 7
- ④ 10は 1と 9

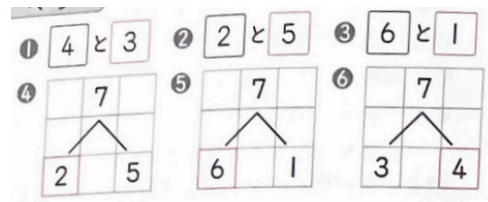
7)



8)



9)



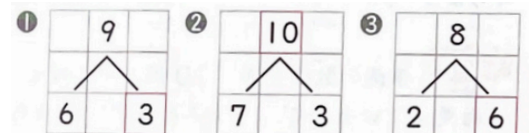
10)

- ① あと 3つ
- ② あと 6つ
- ③ あと 9つ

11)

- ① 9は 4と 5
- ② 6と 2で 8
- ③ 5は 3と 2
- ④ 8は 1と 7

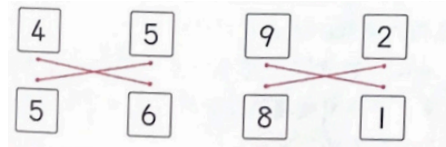
12)



13)

- ① 7は 2と 5
- ② 8は 3と 5
- ③ 6は 4と 2
- ④ 9は 5と 4

14)



15)

