


NOME: \_\_\_\_\_

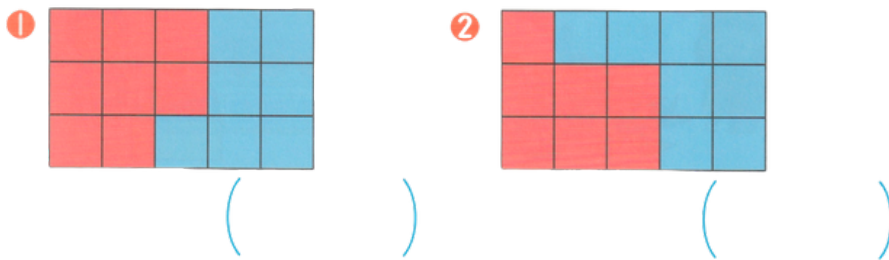
DATA: \_\_\_\_\_

## CAPÍTULO 23 - 1º ANO: COMPARANDO TAMANHOS (2)

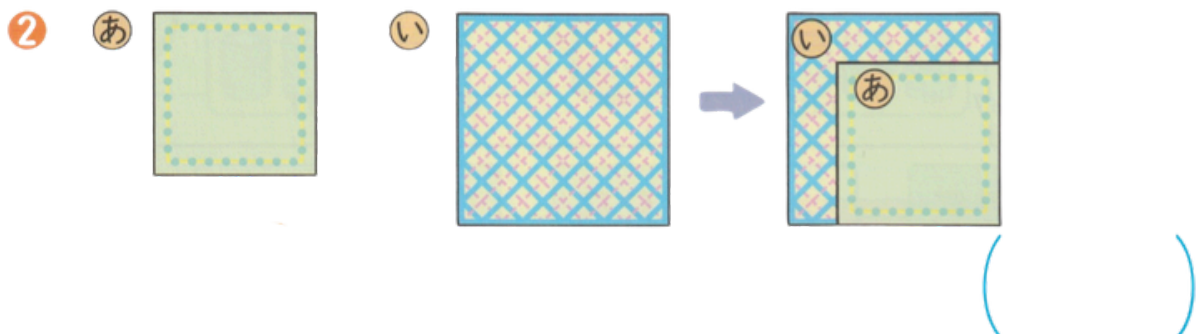

1. ESCREVA NA ORDEM DO MAIS AMPLO PARA O MENOS AMPLO.



2. QUAL É MAIS AMPLO, O VERMELHO OU O AZUL?



3. ENTRE A E I, QUAL É MAIS AMPLO? (USAR SOBREPOSIÇÃO PARA COMPARAR)



4. ENTRE A E I, QUAL TEM MAIS QUANTIDADE (MAIS QUADRINHOS/PREENCHIMENTO)?

あ




い



( )


5. QUAL É MAIS AMPLO: O VERMELHO OU O AZUL? (CONTAMOS OS QUADRINHOS)

1



( )

2



( )

# FOLHA RESPOSTA

## 1. QUESTÃO

(い) → (う) → (あ)

## 2. QUESTÃO

① 赤

② 青

## 3. QUESTÃO

① あ

② い

## 4. QUESTÃO

あ

## 5. QUESTÃO

① 青

② 赤