


NOME: _____

DATA: _____

CAPÍTULO 18 - 1º ANO: NÚMEROS GRANDES / COMO CONTAR NÚMEROS

1. VAMOS ESCREVER OS NÚMEROS.



十のくらい	一のくらい




十のくらい	一のくらい

2. VAMOS ESCREVER OS NÚMEROS.



	こ
--	---



	こ
--	---

3. FORME OS NÚMEROS ABAIXO:

① 2 DEZENAS E 6 UNIDADES

② 8 DEZENAS E 1 UNIDADE

③ 4 DEZENAS

④ 9 DEZENAS

4. QUANTAS DEZENAS E UNIDADES TEM CADA NÚMERO?

① 43 TEM DEZENAS E UNIDADES

② 69 TEM DEZENAS E UNIDADES

③ 70 TEM DEZENAS E UNIDADES

④ 80 TEM DEZENAS E UNIDADES

5. MARQUE COM ○ O NÚMERO MAIOR.



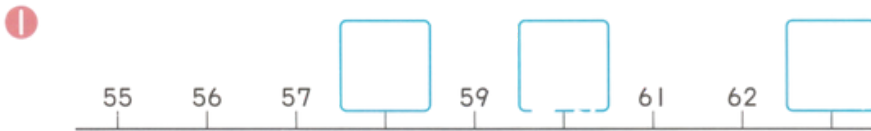
6. VAMOS ORGANIZAR DO MAIOR PARA O MENOR.



7. VAMOS ESCREVER NA ORDEM:



8. VAMOS ESCREVER O NÚMERO QUE ENTRA NO QUADRINHO.



9. QUANTOS FALTAM PARA CHEGAR A 100?



10. VAMOS PENSAR EM COMO PAGAR UM CHOCOLATE DE 27 IENES.



11. CONTANDO FOLHAS (まい)

① CADA LIVRO PEQUENO = 10枚

• HÁ:

- 10 LIVROS → 100
- MAIS 4 FOLHAS SOLTAS



② UM LIVRO GRANDE = 100枚

UM LIVRO PEQUENO = 10枚



③ UM LIVRO GRANDE = 100枚

• MAIS:

- 2 FOLHAS SOLTAS



12. VAMOS ESCREVER O NÚMERO QUE ENTRA NO QUADRINHO. (TABELA DE 81 ATÉ 120, COM ALGUNS NÚMEROS FALTANDO)

81	82	83	84		86	87	88	89	90
91		93	94	95	96	97		99	
101	102	103	104	105		107	108	109	110
111		113	114	115	116	117		119	120
			124						

13. COM 100 IENES, O QUE É POSSÍVEL COMPRAR?



() と () の どちらか 1つ。

NOME: _____

DATA: _____

CAPÍTULO 18 - 1º ANO: NÚMEROS GRANDES / COMO CONTAR NÚMEROS- ATIVIDADE DE REVISÃO

1. VAMOS ESCREVER O NÚMERO QUE ENTRA NO QUADRINHO.


①

②

③ O NÚMERO QUE É 4 MAIOR QUE 63

④ O NÚMERO QUE É 2 MENOR QUE 95

⑤ O NÚMERO QUE É 5 MAIOR QUE 58



2. VAMOS REORGANIZAR OS NÚMEROS DO MAIOR PARA O MENOR.

→ → → →

3. MARQUE UM CÍRCULO NO NÚMERO MAIOR.

① ② ③


() () () () () ()

NOME: _____

DATA: _____

CAPÍTULO 18 - 1º ANO: NÚMEROS GRANDES / COMO CONTAR NÚMEROS- TESTE DE REVISÃO

1. VAMOS ESCREVER OS NÚMEROS USANDO ALGARISMOS.



本



まい



こ

2. VAMOS ESCREVER O NÚMERO QUE ENTRA NO QUADRINHO.



QUANTO FALTA PARA O 80 VIRAR 100?

ENTRE 58 E 68, QUAL É O MAIOR?

FOLHA RESPOSTA

1. QUESTÃO

①

十のくらい	一のくらい
2	5

②

十のくらい	一のくらい
4	0

2. QUESTÃO

① 65 こ

② 53 こ

3. QUESTÃO

- ① 2 DEZENAS E 6 UNIDADES= 26
- ② 8 DEZENAS E 1 UNIDADE= 81
- ③ 4 DEZENAS= 40
- ④ 9 DEZENAS= 90

4. QUESTÃO

- ① 43 TEM 4 DEZENAS E 3 UNIDADES
- ② 69 TEM 6 DEZENAS E 9 UNIDADES
- ③ 70 TEM 7 DEZENAS E 0 UNIDADES
- ④ 80 TEM 8 DEZENAS E 0 UNIDADES

5. QUESTÃO

①

9	3
---	---

7	8
---	---

②

8	5
---	---

8	6
---	---

6. QUESTÃO

1	0
---	---

 →

8	1
---	---

 →

7	3
---	---

 →

6	9
---	---

 →

2	3
---	---

7. QUESTÃO

①

8	4
---	---

8	5
---	---

8	6
---	---

8	7
---	---

8	8
---	---

8	9
---	---

②

5	0
---	---

6	0
---	---

7	0
---	---

8	0
---	---

9	0
---	---

1	0
---	---

8. QUESTÃO

①

5	8
---	---

6	0
---	---

6	3
---	---

②

2	0
---	---

2	4
---	---

2	6
---	---

9. QUESTÃO

- ① 40
- ② 8
- ③ 2

10. QUESTÃO

- ① ●を 2つ、◎を 1つ、⊙を 2つ。
- ② ●を 2つ、⊙を 7つ。
- ③ ◎を 5つ、⊙を 2つ。

11. QUESTÃO

① 113 まい

② 110 まい

③ 102 まい

12. QUESTÃO

81	82	83	84	85	86	87	88	89	90
91	92	93	94	95	96	97	98	99	100
101	102	103	104	105	106	107	108	109	110
111	112	113	114	115	116	117	118	119	120
121	122	123	124						

13. QUESTÃO

えんぴつ、けしゴム

4. QUESTÃO

- ① 43 TEM 4 DEZENAS E 3 UNIDADES
- ② 69 TEM 6 DEZENAS E 9 UNIDADES
- ③ 70 TEM 7 DEZENAS E 0 UNIDADES
- ④ 80 TEM 8 DEZENAS E 0 UNIDADES

ATIVIDADE DE REVISÃO

1. QUESTÃO

①

6	7
---	---

6	8
---	---

6	9
---	---

7	0
---	---

7	1
---	---

7	2
---	---

②

7	5
---	---

8	0
---	---

8	5
---	---

9	0
---	---

9	5
---	---

1	0
---	---

2. QUESTÃO

100 → 91 → 79 → 54 → 37

3. QUESTÃO

①

6	0
---	---

7	1
---	---

 ②

1	0
---	---

2	9
---	---

 ③

1	2
---	---

0	1
---	---

() () () () () () () ()

TESTE DE REVISÃO

1. QUESTÃO

- ① 62本
- ② 90まい
- ③ 108こ

2. QUESTÃO



QUANTO FALTA PARA O 80 VIRAR 100?
20

ENTRE 58 E 68, QUAL É O MAIOR?
68