


NOME: \_\_\_\_\_

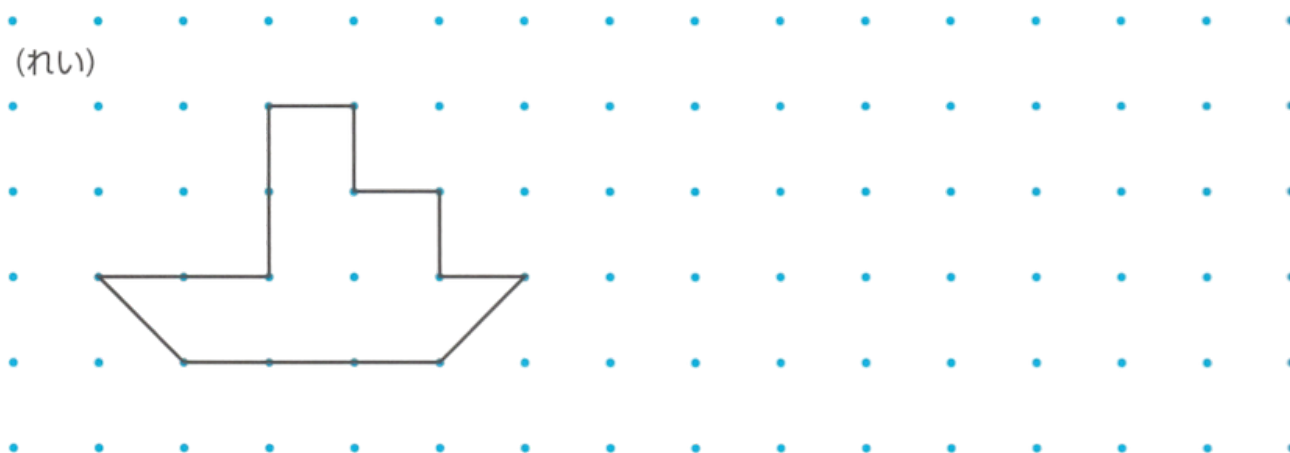
DATA: \_\_\_\_\_

## CAPÍTULO 14 - 1º ANO: CONSTRUÇÃO DE FORMAS

1. VOCÊ SABE COM QUANTAS PEÇAS COLORIDAS CADA FIGURA FOI FEITA? VAMOS ENCONTRAR, DA FIGURA あ ATÉ き, QUAIS FORAM FEITAS COM 6 PEÇAS.



2. CONECTE OS PONTOS COM LINHAS E FAÇA A MESMA FORMA DO EXEMPLO.



NOME: \_\_\_\_\_

DATA: \_\_\_\_\_

## CAPÍTULO 14 - 1º ANO: TESTE DE REVISÃO

1. QUANTAS PEÇAS IGUAIS À PEÇA “あ” SÃO NECESSÁRIAS PARA FORMAR CADA UMA DAS FIGURAS ABAIXO? CADA FIGURA TEM QUE SER CONTADA USANDO A PEÇA MODELO LÁ EM CIMA (TRIÂNGULO ROSA).

1つ10[30てん]

まい       まい       まい

2. A PARTIR DA FIGURA INICIAL, UMA PEÇA FOI MOVIDA PARA FORMAR CADA UMA DAS FIGURAS ①~③. PARA CADA FIGURA, QUAL PEÇA FOI MOVIDA?

はじめのかたち

①

②

③

うごかし  
たのは → (      )      (      )      (      )

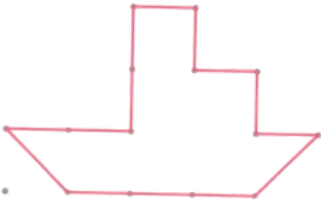


# FOLHA RESPOSTA

## 1. QUESTÃO

(あ、え、か)

## 2. QUESTÃO

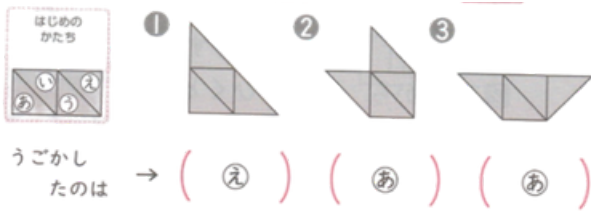


## TESTE DE REVISÃO

### 1. QUESTÃO



### 2. QUESTÃO



### 3. QUESTÃO

① 12ほん    ② 18ほん