

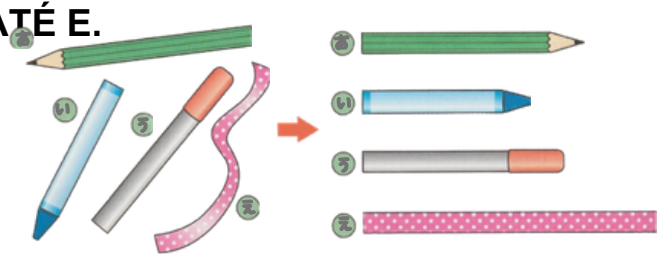
NOME: _____

DATA: _____

CAPÍTULO 11 - 1º ANO: COMPARAÇÃO DE TAMANHOS (1)

SEÇÃO 1 – COMPRIMENTO

1. OLHE A FIGURA E RESPONDA DE A ATÉ E.

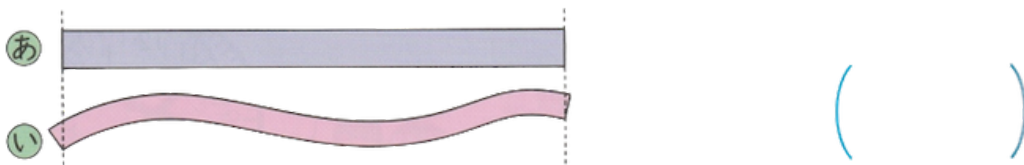


① QUAL É O MAIS COMPRIDO?

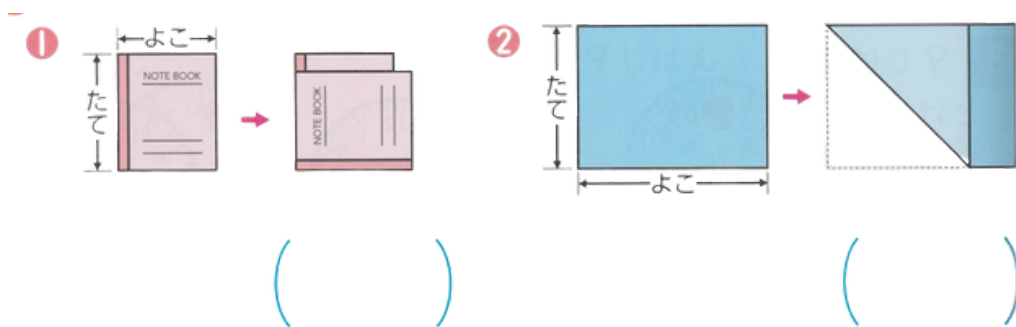
② QUAL É O MAIS CURTO?

ESTIQUE OS OBJETOS OU ALINHE AS PONTAS PARA COMPARAR.

2. QUAL É MAIS COMPRIDO, A OU I?



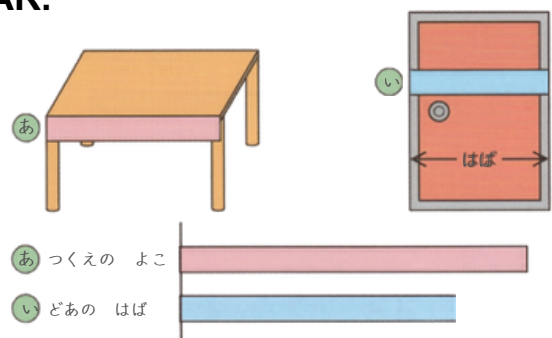
3. QUAL É MAIS COMPRIDO, A ALTURA (たて) OU A LARGURA (よこ) DE CADA OBJETO?



4. O COMPRIMENTO DA LARGURA DA MESA E DA LARGURA DA PORTA SÃO COPIADOS NA FITA PARA COMPARAR.

QUAL DELES É MAIS COMPRIDO, A OU I?

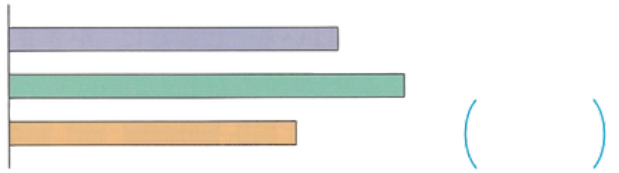
SERÁ QUE A MESA PASSA PELA PORTA?



5. QUAL É O MAIS COMPRIDO: A, I OU U?

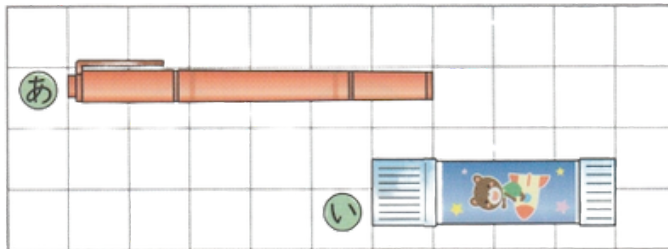
- A: ALTURA DA MESA.
- I: LARGURA DA ESTANTE.
- U: ALTURA DA ESTANTE.

あ つくえの たかさ
い ほんだなの はば
う ほんだなの たかさ




6. QUAL É MAIS COMPRIDO, A OU I?

1



()

2




()

NOME: _____

DATA: _____

CAPÍTULO 11 - 1º ANO: COMPARAÇÃO DE TAMANHOS (2)

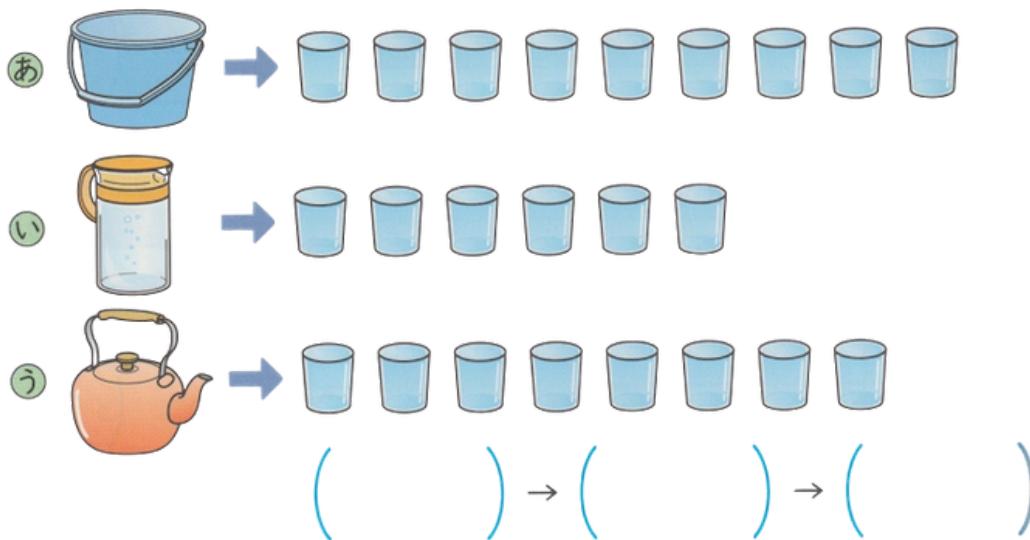
1. VOCÊ CONSEGUE DESCOBRIR QUAL TEM MAIS (QUANTIDADE DE ÁGUA)?



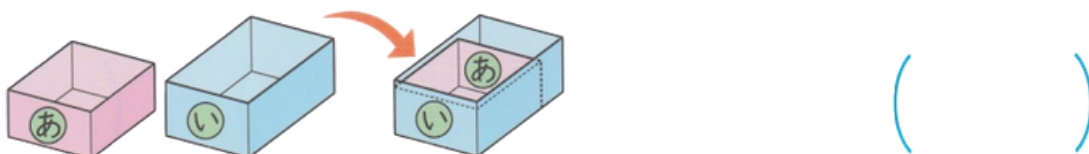
① ENTRE A E I, QUAL CONSEGUE CONTER MAIS?

② ENTRE A E I, QUAL CONSEGUE CONTER MAIS?

2. VAMOS ESCREVER EM ORDEM (DO MAIOR PARA O MENOR) QUAL RECIPIENTE COMPORTA MAIS ÁGUA.



3. QUAL CAIXA É MAIOR, A OU I?

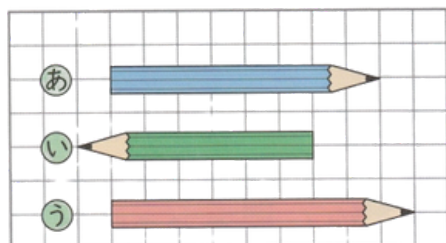


NOME: _____

DATA: _____

CAPÍTULO 11 - 1º ANO: TESTE DE REVISÃO

1. ESCREVA NA ORDEM DO MAIS COMPRIDO.



() → () → ()

2. ESCREVA NA ORDEM DO QUE TEM MAIS ÁGUA.

あ



い




う



() → () → ()


3. ENTRE A E I, EM QUAL CABE MAIS ÁGUA?

1



()

2



()

EXISTEM VÁRIOS JEITOS DE COMPARAR, NÃO É?

FOLHA RESPOSTA

COMPARAÇÃO DE TAMANHO (1)

1. QUESTÃO

① QUAL É O MAIS COMPRIDO? U

② QUAL É O MAIS CURTO? I

2. QUESTÃO

I (FITA ROSA)

3. QUESTÃO

①(たて)

②(よこ)

4. QUESTÃO

あ.

5.QUESTÃO

い

6. QUESTÃO

① あ.

② い

COMPARAÇÃO DE TAMANHO (2)

1. QUESTÃO

① い

② あ.

2. QUESTÃO

A→U→I

3. QUESTÃO

い

TESTE DE REVISÃO

1.QUESTÃO

U→A→I

2. QUESTÃO

I→U→A

3 QUESTÃO

① い

② あ.