
















NOME: _____






DATA: _____

CAPÍTULO 1 - 1º ANO: NÚMEROS E ALGARISMOS

1) LIGUE OS QUE SÃO IGUAIS. TRACE UMA LINHA ENTRE A FIGURA E A QUANTIDADE CORRESPONDENTE.

2) ESCREVA A QUANTIDADE DOS ANIMAIS.

<p>1</p>  <input type="text"/>	<p>2</p>  <input type="text"/>	<p>3</p>  <input type="text"/>
<p>4</p>  <input type="text"/>	<p>5</p>  <input type="text"/>	<p>6</p>  <input type="text"/>

Nome: _____

Data: _____

CAPÍTULO 1 - 1º ANO: NÚMEROS E ALGARISMOS

3) LIGUE OS QUE SÃO IGUAIS. TRACE UMA LINHA ENTRE A FIGURA E A QUANTIDADE CORRESPONDENTE.

6 9 7 10 8

4) VAMOS COLORIR A QUANTIDADE CORRESPONDENTE AO NÚMERO.

1 10 2 7

5) ESCREVAS AS QUANTIDADES DAS FRUTAS.

1 は こ

2 は ほん

3 は こ

4 は こ

Nome: _____

Data: _____

CAPÍTULO 1 - 1º ANO: NÚMEROS E ALGARISMOS

6) LIGUE OS QUE SÃO IGUAIS. TRACE UMA LINHA ENTRE A FIGURA E A QUANTIDADE CORRESPONDENTE.

5 red dots, 3 yellow blocks, 7, 5 green pencils, 4 white cups, 9, 3, 6, 7 strawberries, 5, 6 cookies, 4

7) MARQUE COM UM CÍRCULO O NÚMERO MAIOR.

<p>1</p> <p>()</p> <p>()</p>	<p>2</p> <p>()</p> <p>()</p>
<p>3</p> <p>()</p> <p>()</p>	<p>4</p> <p>()</p> <p>()</p>

